

교사용
특별부록

초등 사회

선생님 자료창고

- **꼭지시험** 2
교과서 주제별 주요 개념을 확인할 수 있는 문제입니다. 진도 교재의 교과서 핵심 강의를 학습하기 전에 지난 시간에 배운 내용을 확인하실 때 사용하세요.
- **유형문제** 14
시험에 자주 출제되는 유형 문제로 구성하였습니다. 시험대비 교재의 '단원평가' 풀이 후 더 많은 문제가 필요한 경우 사용하세요.
- **실전 서술형·논술형 문제** 26
출제율이 높은 서술형·논술형 문제를 집중적으로 풀어 볼 수 있는 코너입니다. 학교 시험에서 서술형·논술형 문제의 출제 비중이 높은 학생들에게 추가 문제로 사용하세요.
- **중간·기말 학력평가** 32
학력평가 예상 문제를 '중간 범위, 중간 이후 범위, 전 범위'로 구성하였습니다. 시험대비 교재의 '중간·기말 대비 단원별 학력평가' 풀이 후 더 많은 문제가 필요한 경우 사용하세요.
- **정답과 해설** 41

4·1

* 교사용 CD는 총판을 통해 받으시거나 비상교육 홈페이지(www.visang.com/
book → 학원선생님 → 초등 자료실 → 사회)에서 내려 받으실 수 있습니다.

3~4학년군 ③

답을 쓰세요.

1 들이나 산, 바닷가와 같은 곳에서 농사를 짓거나 고기잡이를 하면서 살아가는 곳을 무엇이라고 합니까?

1

2 촌락은 농촌, , 산지촌으로 구분할 수 있습니다.

2

3 은/는 평평하고 넓은 들에 자리 잡은 촌락으로, 넓은 들이 있어서 농사를 짓습니다.

3

4 바닷가에 자리 잡은 촌락을 ㉠(이)라고 하고, 산속에 자리 잡은 촌락을 ㉡(이)라고 합니다.

4 ㉠ :
㉡ :

5 지도에서 높이가 같은 곳을 선으로 이어 땅의 높낮이를 나타낸 것을 무엇이라고 합니까?

5

6 지도에 칠해져 있는 은/는 땅의 높고 낮음을 나타낸 것입니다.

6

7 다음 내용 중 알맞은 말에 ○표 하시오.

7

지도에서 땅의 낮은 곳은 (초록색 , 파란색)으로 칠하고, 높이가 높아질수록 노란색, 갈색, 고동색의 순서로 칠합니다.

8 을/를 이용하여 위성 지도를 보면 우리 지역에 발달한 촌락을 조사할 수 있습니다.

8

9 다음 내용 중 알맞은 말에 ○표 하시오.

9

낮고 평평한 땅이 펼쳐져 있는 지역에는 (농촌 , 어촌 , 산지촌)이 발달하였습니다.

10 은/는 밀물 때에는 바닷물로 덮여 있고 썰물 때에는 땅이 드러나는 바닷가의 평평한 곳을 말합니다.

10

답을 쓰세요.

1 들판이 넓게 펼쳐져 있고, 강이나 하천을 볼 수 있는 에서는 벼농사를 하거나 여러 가지 채소를 재배합니다.

1

2 다음 내용 중 알맞은 말에 ○표 하시오.

2

농촌에서 (저수지 , 정미소)는 쌀 찧는 일을 전문적으로 하는 곳입니다.

3 농촌에서 논밭갈이, 모내기, 채소 씨앗 뿌리기 등을 하는 계절은 언제입니까?

3

4 촌락 중 에 사는 사람들은 고기잡이를 하거나 양식을 하고, 갯벌에서 조개, 게 등을 잡기도 합니다.

4

5 다음 내용 중 알맞은 말에 ○표 하시오.

5

어촌에서 (부두 , 방파제)는 항구로 밀려드는 파도를 막기 위한 시설입니다.

6 산과 울창한 숲이 있고, 산비탈에는 경사진 밭이나 계단식 논이 있는 촌락은 어디입니까?

6

7 땅이 높아 여름철에도 서늘한 산간 지역에서 재배되는 채소를 무엇이라고 합니까?

7

8 바다에서 고기를 잡거나 기르고, 김과 미역을 따는 일 등을 (이)라고 합니다.

8

9 산에서 목재나 나뭇을 얻고 버섯 등을 재배하는 산업을 무엇이라고 합니까?

9

10 촌락마다 발달한 산업이 다른 까닭은 촌락마다 이/가 달라서 이를 이용한 생산 활동이 다르기 때문입니다.

10

1 다음 내용 중 알맞은 말에 ○표 하시오.

옛날의 촌락은 길이 좁고 울퉁불퉁하였으며, (초가집, 양옥집) 이 많았습니다.

2 옛날에는 [] 을/를 이용해 밭을 갈거나 사람의 힘으로 농사를 짓고, 바쁠 때에는 많은 사람이 힘을 합쳐 농사를 지었습니다.

3 옛날에 짐을 옮길 때 사용했던 도구로, 짐을 얹어 사람이 등에 지는 운반 기구는 무엇입니까?

4 촌락은 과학과 통신 및 교통의 [] (으)로 농기계 및 시설이 발달하면서 모습이 많이 변화되었습니다.

5 그래프를 읽을 때에는 무엇을 나타내는지 [] 을/를 확인하고, 가로축과 세로축의 항목을 확인하여 사실을 찾아내며, 앞으로 일어날 일을 예측해 봅니다.

6 다음 내용 중 알맞은 말에 ○표 하시오.

강화도는 서해안에 위치한 섬이지만, 어촌보다는 주로 (농촌, 산지촌)이 발달하였습니다.

7 강화도는 기후가 온화하고, 촌락이 들어서기에 알맞은 완만한 언덕 지대가 많아 옛날부터 사람들이 모여 [] 을/를 짓고 살았습니다.

8 바다나 호수의 일부를 둑으로 막고, 그 안의 물을 빼내어 육지로 만드는 것을 무엇이라고 합니까?

9 강화도는 육지와 연결하는 다리가 건설되면서 [] 이/가 편리해졌습니다.

10 강화도는 쌀, 인삼, 약쑥, 순무와 같은 [] 의 판매량이 늘어나 농가의 소득이 높아졌습니다.

1

2

3

4

5

6

7

8

9

10

답을 쓰세요.

1 다음 내용 중 알맞은 말에 ○표 하시오.

촌락의 사람들이 도시로 이동하면서 촌락의 인구가 (감소 , 증가)하고 있습니다.

2 촌락에서는 노인 인구 비율이 높아지는 현상이 나타나고 있습니다.

3 다음 내용 중 알맞은 말에 ○표 하시오.

촌락은 외국에서 값싼 농수산물이 들어오면서 소득이 (감소 , 증가)하고 있습니다.

4 촌락은 농약과 축산 폐수 등으로 인해 물과 토양이 오염되고, 폐그물과 배에서 나오는 기름 등으로 인해 이/가 오염되고 있습니다.

5 촌락의 을/를 늘리기 위해 지역 사회에서는 귀농이나 귀촌을 하려는 사람들이 촌락에 잘 적응할 수 있도록 촌락 생활에 대한 다양한 정보를 제공하고 있습니다.

6 다음 내용 중 알맞은 말에 ○표 하시오.

촌락의 소득을 올리기 위해 농업과 어업을 기계화, 과학화하여 (일손 부족 , 편의 시설 부족) 문제를 해결할 수 있습니다.

7 촌락에서 생산한 곡식, 채소, 과일, 생선 등을 도시 사람들에게 직접 판매하는 장터를 무엇이라고 합니까?

8 촌락 사람들이 일손이 부족하여 가꿀 수 없는 땅을 도시 사람들에게 빌려 주는 것을 무엇이라고 합니까?

9 촌락에서는 지역의 자연환경이나 그 지역에서 특별히 생산되는 을/를 이용하여 다양한 축제가 열립니다.

10 다음 내용 중 알맞은 말에 ○표 하시오.

촌락은 축제를 열어 지역의 전통과 문화를 알리고, (농업 , 어업 , 관광업)으로 발전시켜 소득을 올리고 있습니다.

1

2

3

4

5

6

7

8

9

10

답을 쓰세요.

1 사회적·경제적·정치적 활동의 중심지로서 인구가 많은 지역을 무엇이라고 합니까?

1

2 다음 내용 중 알맞은 말에 ○표 하시오.

2

도시의 땅은 한정되어 있는데 많은 사람이 살아야 하기 때문에 (낮은 , 높은) 건물이 많습니다.

3 에는 사람들이 일할 수 있는 곳이 많고, 일의 종류도 많습니다.

3

4 도시에는 도서관이나 박물관, 미술관과 같은 이/가 많습니다.

4

5 다음 내용 중 알맞은 말에 ○표 하시오.

5

도시의 여러 시설 중 (백화점 , 박물관)은 생활에 필요한 물건을 살 수 있는 곳입니다.

6 도시에는 시설이 발달되어 있어 사람들은 버스나 지하철을 이용하여 쉽게 이동할 수 있습니다.

6

7 도시가 위치한 지역의 자연환경이나 행정 구역, 교통 등을 두루 살펴볼 수 있는 지도는 무엇입니까?

7

8 도시의 도로나 철도와 같은 교통에 대한 정보를 얻을 수 있는 지도는 무엇입니까?

8

9 도시의 실제 모습을 살펴보기에 좋은 것으로, 비행 중인 항공기에서 고성능 사진기로 땅의 모습을 찍은 사진은 무엇입니까?

9

10 다음 내용 중 알맞은 말에 ○표 하시오.

10

도시는 주로 (넓은 평지 , 높은 산지)에 만들어집니다.

답을 쓰세요.

- 1 도시들이 몰려 있거나 퍼져 있는 것을 도시의 (이)라고 합니다.
- 2 우리나라 도시의 분포를 나타낸 지도로, 도시의 위치와 인구 등을 살펴볼 수 있는 것은 무엇입니까?
- 3 우리나라는 서울특별시, 인천광역시, 경기도 지역에 도시가 가장 많이 모여 있는데, 이 지역을 (이)라고 합니다.
- 4 다음 내용 중 알맞은 말에 ○표 하시오.
도시마다 사는 사람 수가 (같습니다 , 다릅니다).
- 5 우리나라에는 여러 도시들이 발달해 있고, 에는 많은 도시들이 몰려서 발달해 있습니다.
- 6 부산광역시, 울산광역시, 포항시, 강릉시 등은 에 발달한 도시입니다.
- 7 다음 내용 중 알맞은 말에 ○표 하시오.
(산속 , 바닷가)에 도시가 발달해 있으면 항구의 건설로 다른 지역으로 이동하기가 편합니다.
- 8 울산광역시는 공업 단지가 만들어진 이후 아주 큰 도시로 발달하였습니다.
- 9 이/가 편리하고 산업이 발달한 지역은 사람들이 모여 살기에 적합하기 때문에 도시가 발달합니다.
- 10 이/가 되려면 주민들이 다른 도시에 의존하지 않고 도시 안에서 생활할 수 있어야 하고, 지역 사람들이 찬성해야 하며, 나라에서도 인정해야 합니다.

1

2

3

4

5

6

7

8

9

10

1 []에서는 주택 부족, 교통 혼잡, 주차 문제, 대기 오염, 수질 오염, 소음 공해 등의 문제가 발생합니다.

1

2 다음 내용 중 알맞은 말에 ○표 하시오.

2

우리 지역의 도시 문제를 조사할 때에는 가장 먼저 (조사 내용 정리하기 , 조사 계획 세우기)를 합니다.

3 도시 문제 중 []로는 주택 부족, 오래되고 낡은 주택, 비싼 주택 가격 등이 있습니다.

3

4 도시에서는 대기 오염, 수질 오염, 늘어나는 쓰레기를 처리하는 문제 등의 [] 문제가 심각합니다.

4

5 도시 문제가 발생하는 원인은 [](으)로의 인구 집중 때문입니다.

5

6 도시의 비싼 주택 가격 문제를 해결하기 위한 방법은 무엇입니까?

6

7 도시의 교통 혼잡 문제를 해결하기 위해 도로의 한 차로를 버스만 다닐 수 있게 만든 제도는 무엇입니까?

7

8 다음 내용 중 알맞은 말에 ○표 하시오.

8

물 재생 시설을 설치하면 도시의 (수질 오염 , 대기 오염) 문제를 해결할 수 있습니다.

9 도시에서 범죄를 예방하기 위한 방법은 무엇입니까?

9

10 다음 내용 중 알맞은 말에 ○표 하시오.

10

도시에서 발생하는 문제를 해결하기 위하여 가족이 할 수 있는 일에는 (일자리 만들기 , 쓰레기 분류 배출하기) 등이 있습니다.

답을 쓰세요.

1 계획적으로 개발된 새로운 도시를 무엇이라고 합니까?

1

2 일산과 분당은 서울로 인구가 집중되면서 생긴 부족 문제를 해결하기 위하여 만들었습니다.

2

3 다음 내용 중 알맞은 말에 ○표 하시오.

3

안산시의 반월 국가 산업 단지와 여수시의 여수 국가 산업 단지를 만든 까닭은 지역의 (산업 , 문화)을/를 발전시키기 위해서입니다.

4 대전광역시의 은/는 과학 기술의 발전을 위하여 만들었습니다.

4

5 수도권에 집중된 인구와 기능으로 인해 발생한 문제를 해결하고, 우리나라 전체를 골고루 발전시키기 위하여 만든 신도시는 어디입니까?

5

6 위 5번 답의 신도시는 어느 지역에 있습니까?

6

7 신도시에 사는 사람들 중에는 대도시로 출퇴근하는 사람이 많아서 문제가 발생합니다.

7

8 다음 내용 중 알맞은 말에 ○표 하시오.

8

공장이 모여 있는 신도시에서는 (환경 , 인구 감소) 문제가 발생하기도 합니다.

9 다음 내용 중 알맞은 말에 ○표 하시오.

9

도시가 제대로 만들어지려면 도시 계획 전문가 외에도 (이웃 도시의 사람들 , 도시에 살고 있는 사람들)의 참여가 필요합니다.

10 사람들이 살기 좋은 신도시는 사람과 이/가 조화를 이루며 행복하고 건강한 삶을 살 수 있는 도시입니다.

10

답을 쓰세요.

1 학급이나 학교, 지역에서는 여러 사람들이 함께 해결해야 하는 의 문제가 일어납니다.

1

2 다음 내용 중 알맞은 말에 ○표 하시오.

2

급식 받는 순서 정하기, 자리 정하기, 청소 당번 정하기 등은 (지역 , 학급)에서 일어나는 공동의 문제입니다.

3 학급에서 일어난 공동의 문제는 을/를 열어 학생들이 민주적인 방법으로 해결할 수 있습니다.

3

4 다음 내용 중 알맞은 말에 ○표 하시오.

4

아파트 층간 소음 문제, 주차 문제, 쓰레기 문제, 하천 오염 문제 등은 (지역 , 학급)에서 일어나는 공동의 문제입니다.

5 아파트 때문에 주민들은 시끄러워서 불편하고 잠을 편하게 자지 못하기도 합니다.

5

6 지역 주민들은 을/를 열어 함께 지역의 문제를 해결합니다.

6

7 다음 내용 중 알맞은 말에 ○표 하시오.

7

공동의 문제에 대해 서로 의견을 나누고, 대화하고 (갈등 , 타협) 하여 의견을 하나로 모아 실천합니다.

8 다음 내용 중 알맞은 말에 ○표 하시오.

8

지역 문제를 민주적인 방법으로 해결하려면 상대방의 생각과 의견을 존중하면서 (개인 , 공동)의 이익을 위해 노력해야 합니다.

9 지역 주민들이 지역의 주인으로서 지역 문제에 관심을 가지고 함께 해결해 가는 것을 무엇이라고 합니까?

9

10 지역의 문제는 모든 지역 주민들에게 영향을 미치기 때문에 지역 주민들이 함께 하여 해결해야 합니다.

10

답을 쓰세요.

1 국민이 자신들을 대표할 사람을 뽑는 것을 무엇이라고 합니까?

1

2 지방 자치 단체장 선거, 지방 의회 의원 선거 등과 같이 지역의 대표를 뽑는 선거를 무엇이라고 합니까?

2

3 선거를 하는 과정은 '선거인 명부 작성 → ㉠ → 선거 운동 → ㉡ → 개표 및 당선자 결정 → 당선증 발급' 순으로 이루어집니다.

3 ㉠ :

㉡ :

4 다음 내용 중 알맞은 말에 ○표 하시오.

4

(선거 운동 , 투표)은/는 정해진 기간에 유권자들에게 다양한 방법으로 지지를 부탁하는 것입니다.

5 선거와 투표를 공정하고 올바르게 이루어지도록 선거에 관한 일을 맡아 처리하는 곳은 어디입니까?

5

6 후보자가 지역 주민들에게 어떤 일을 실천하겠다고 약속하는 것을 무엇이라고 합니까?

6

7 신분이나 재산, 성별, 학력 등 조건에 관계없이 한 사람이 한 표씩 투표할 수 있는 선거의 원칙은 무엇입니까?

7

8 은/는 자신이 투표한 사람을 다른 사람이 알지 못하게 비밀이 보장되는 선거의 원칙입니다.

8

9 선거 은/는 선거를 앞두고 후보자들이 자신들의 공약과 정책을 지역 주민들에게 알리려고 엽니다.

9

10 지역 주민들이 에 많이 참여할수록 대표로 뽑힌 사람은 지역의 일을 더욱 열심히 하고 공약을 실천하게 됩니다.

10

- 1 지역 주민들과 그들이 뽑은 대표들이 지역의 일을 스스로 결정하고 처리하는 것을 무엇이라고 합니까?
- 2 은/는 지역 주민들을 위하여 대표들이 지역의 살림살이를 꾸려 나가는 곳을 말합니다.
- 3 다음 내용 중 알맞은 말에 ○표 하시오.

우리나라의 (광역 자치 단체 , 기초 자치 단체)에는 서울특별시, 6개의 광역시, 8개의 도, 제주특별자치도, 세종특별자치시가 있습니다.
- 4 인터넷을 이용하여 지방 자치 단체의 에 들어가면 지역에 있는 지방 자치 단체를 좀 더 자세히 알아볼 수 있습니다.
- 5 지역 주민을 대표하여 지역을 위해 일하는 시·도 의회, 시·군·구 의회를 무엇이라고 합니까?
- 6 지방 의회는 시·도청과 교육청에서 을/를 계획에 맞게 사용하였는지 확인하고 점검하는 일을 합니다.
- 7 지방 의회가 지역의 살림살이를 하는 데 필요한 내용을 규칙으로 정한 것을 무엇이라고 합니까?
- 8 은/는 학교와 관련된 일을 맡아보는 곳으로, 학교를 짓거나 고치고 학생들의 교육 활동을 지원합니다.
- 9 시·도청과 같은 은/는 지방 의회에서 결정한 일들을 추진하며, 지역 주민을 위하여 일하는 곳입니다.
- 10 다음 내용 중 알맞은 말에 ○표 하시오.

(시·도청 , 시·도 의회)은/는 지역 발전을 위한 개발 계획을 세우고 실천하며, 지역이 발전할 수 있도록 도로나 주택, 상하수도 등을 건설합니다.

- 1
- 2
- 3
- 4
- 5
- 6
- 7
- 8
- 9
- 10

답을 쓰세요.

1 시·도청, 시·도 의회처럼 지역 문제를 해결하기 위해 일하는 곳을 무엇이라고 합니까?

1

2 다음 내용 중 알맞은 말에 ○표 하시오.

2

쓰레기 매립장에서 나오는 지저분한 물 때문에 주민들이 고통에 시달리자 (시청, 시 의회)은/는 문제를 해결하기 위한 계획과 예산을 세웠습니다.

3 은/는 시·도청에서 제출한 계획과 예산을 받아들여 계획을 진행할 수 있도록 결정합니다.

3

4 다음 내용 중 알맞은 말에 ○표 하시오.

4 ㉠ :

㉠ (시·도청, 시·도 의회)은/는 지역 문제를 해결하기 위한 사업을 계획하고, ㉡ (시·도청, 시·도 의회)에서 결정하면 사업을 추진합니다.

㉡ :

5 은/는 시청에서 진행하는 공사가 잘 이루어지고 있는지 점검하고, 불편을 겪고 있지는 않은지 주민들의 의견을 듣기도 합니다.

5

6 다음 내용 중 알맞은 말에 ○표 하시오.

6

지역의 문제를 해결하려고 시청과 시 의회는 서로 (협력, 경쟁)하면서 서로 일을 잘하고 있는지 확인하고 감독합니다.

7 시 의회의 점검 활동이 없다면 시청이 마음대로 사업을 진행하거나 이/가 낭비될 수 있습니다.

7

8 지방 정부와 지방 의회는 지역 주민들을 위한 일을 할 때 서로 협력하며 을/를 위하여 노력합니다.

8

9 다음 내용 중 알맞은 말에 ○표 하시오.

9

지역 주민들은 지역 발전을 위하여 다양한 의견을 지방 자치 단체에 (고려, 제안)할 수 있습니다.

10 지방 자치 단체에 바라는 일을 제안하기 위해 시청 의 게시판에 의견을 올립니다.

10

유형 1 촌락

(1) **촌락의 의미** : 들이나 산, 바닷가와 같은 곳에서 농사를 짓거나 고기잡이를 하면서 살아가는 곳을 말합니다.

(2) **촌락의 특징**

농촌	<ul style="list-style-type: none"> • 평평하고 넓은 들에 자리 잡음. • 넓은 들이 있어서 농사를 지음.
어촌	<ul style="list-style-type: none"> • 바닷가에 자리 잡음. • 바다에서 고기를 잡음.
산지촌	<ul style="list-style-type: none"> • 산속에 자리 잡음. • 밭농사도 하고 벼짓도 재배함.

1 다음에서 설명하는 것은 무엇인지 쓰시오.

들이나 산, 바닷가와 같은 곳에서 농사를 짓거나 고기잡이를 하면서 살아가는 곳을 말합니다.

()

2 평평하고 넓은 들에 자리 잡고 있으며, 주로 농사를 짓는 오른쪽 사진과 같은 촌락은 어디인지 쓰시오.



()

3 산지촌의 특징으로 바른 것을 두 가지 고르시오. (,)

- ① 주로 논농사를 짓는다.
- ② 산속에 자리 잡고 있다.
- ③ 바다에서 고기를 잡는다.
- ④ 넓게 펼쳐진 논과 밭이 있다.
- ⑤ 밭농사도 하고 벼짓도 재배한다.

유형 2 지도를 보고 촌락의 위치 알아보기

(1) **실제 모습을 지도로 나타내기**

- ① 지도에서 높이가 같은 곳을 선으로 이어 땅의 높낮이를 나타낸 것을 등고선이라고 합니다.
- ② 산은 지도에서 꼬불꼬불한 등고선으로 나타나 있습니다.
- ③ 논이 있는 부분은 초록색, 바다는 연한 파란색으로 나타나 있습니다.

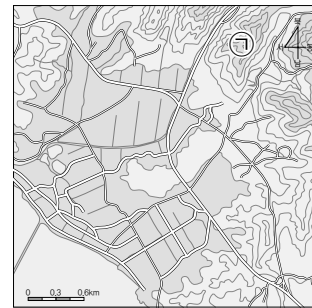
(2) **지도의 색깔을 보고 땅의 높낮이 알아보기**

- ① 지도에 칠해져 있는 색깔은 땅의 높고 낮음을 나타낸 것입니다.
- ② 낮은 곳은 초록색으로 칠하고, 높이가 높아질수록 노란색, 갈색, 고동색의 순서로 칠합니다.

4 지도에서 높이가 같은 곳을 선으로 이어 땅의 높낮이를 나타낸 것을 무엇이라고 하는지 쓰시오.

()

5 다음 지도에서 ㉠이 나타내는 것은 무엇입니까? ()



- ① 산 ② 밭 ③ 논
- ④ 바다 ⑤ 갯벌

6 다음 보기에서 땅의 높이가 가장 높은 곳의 색깔을 골라 기호를 쓰시오.

보기

- ㉠ 갈색 ㉡ 초록색 ㉢ 노란색 ㉣ 고동색

()

유형 1 촌락의 자연환경과 생산 활동

촌락	자연환경	생산 활동
농촌	<ul style="list-style-type: none"> • 들판이 넓게 펼쳐져 있음. • 강이나 하천을 볼 수 있음. 	<ul style="list-style-type: none"> • 논에서 벼농사를 함. • 밭에서 채소를 재배함. • 과수원에서 과일을 재배함. • 비닐하우스에서 꽃을 재배함.
어촌	<ul style="list-style-type: none"> • 주변에 바다가 있음. • 갯벌과 모래사장이 있음. 	<ul style="list-style-type: none"> • 고기잡이를 하거나 김이나 굴 등을 양식함. • 바다에서 해산물 등의 먹을거리를 구함.
산지촌	<ul style="list-style-type: none"> • 산과 울창한 숲이 있음. • 산비탈에 경사진 밭이나 계단식 논이 있음. 	<ul style="list-style-type: none"> • 경사진 밭이나 계단식 논에서 농사를 지음. • 산에서 나물이나 버섯, 약초를 줌. • 숲에서 목재를 얻음.

1 농촌에서 하는 일로 바르지 않은 것은 어느 것입니까? ()

- ① 논에서 벼농사를 한다.
- ② 비닐하우스에서 꽃을 재배한다.
- ③ 고기잡이를 하거나 양식을 한다.
- ④ 밭에서 여러 가지 채소를 재배한다.
- ⑤ 과수원에서 다양한 과일을 재배한다.

2 다음 보기에서 어촌에 사는 사람들이 하는 일을 모두 골라 기호를 쓰시오.

보기

- ㉠ 숲에서 목재를 얻는 일
- ㉡ 산을 가꾸고 지키는 일
- ㉢ 고기를 잡고 기르는 일
- ㉣ 어부들을 안전하게 지켜 주는 일
- ㉤ 농업 기술을 연구하고 알려 주는 일

()

유형 2 촌락에서 볼 수 있는 시설과 발달한 산업

(1) 촌락에서 볼 수 있는 시설

농촌	저수지, 인공 수로, 농산물 저장 창고, 마을 회관, 정미소 등
어촌	등대, 부두, 방파제, 건조장, 생선 직판장, 수산물 냉동 창고 등
산지촌	목장, 사료 창고, 버섯 재배장 등

(2) 촌락에서 발달한 산업

농촌	어촌	산지촌
농업	어업	임업

3 농촌에서 주로 볼 수 있는 시설은 어느 것입니까? ()

①



▲ 목장

②



▲ 건조장

③



▲ 방파제

④



▲ 인공 수로

4 어촌에서 밤에 다니는 배를 위해 불을 밝혀 주는 시설은 무엇입니까? ()

- ① 부두
- ② 등대
- ③ 정미소
- ④ 건조장
- ⑤ 저수지

5 농촌에서 발달한 산업으로, 논과 밭에서 곡식과 채소 등을 재배하는 것을 무엇이라고 하는지 쓰시오.

()

유형 1 촌락의 변화

(1) 촌락의 옛날과 오늘날의 모습

구분	옛날	오늘날
집	초가집이 많았음.	양옥집으로 바뀌었음.
길	좁고 울퉁불퉁했음.	넓어지면서 포장됨.
농사 방법	<ul style="list-style-type: none"> • 소를 이용해 밭을 갈거나 사람의 힘으로 농사를 지었음. • 바쁠 때에는 많은 사람이 힘을 합쳐 농사를 지었음. 	농기계가 발달하여 적은 일손으로도 농사를 짓고, 비닐하우스와 유리온실을 이용하여 농사를 짓기도 함.
짐 운반	지게로 짐을 옮겼음.	기계로 짐을 옮김.

(2) 촌락에 나타난 변화의 원인

- ① 과학과 통신 및 교통의 발달로 농기계 및 시설이 발달하였기 때문입니다.
- ② 젊은 사람들이 일자리를 찾아 도시로 떠나면서 인구가 감소하였기 때문입니다.

1 오늘날 달라진 촌락의 모습으로 바른 것을 두 가지 고르시오. (,)

- ① 양옥집이 많다.
- ② 지게로 짐을 옮긴다.
- ③ 소를 이용해 밭을 간다.
- ④ 길이 좁고 울퉁불퉁하다.
- ⑤ 농기계가 발달하여 적은 일손으로도 농사를 짓는다.

2 오늘날 촌락에 나타난 변화의 원인과 관련이 없는 것은 어느 것입니까? ()

- ① 교통이 발달했기 때문에
- ② 인구가 증가했기 때문에
- ③ 과학과 통신이 발달했기 때문에
- ④ 농기계 및 시설이 발달했기 때문에
- ⑤ 젊은 사람들이 도시로 떠났기 때문에

유형 2 강화도의 형성과 변화

(1) 강화도의 특징

- ① 서해안에 위치한 섬이지만, 어촌보다는 주로 농촌이 발달하였습니다.
- ② 기후가 온화하고, 촌락이 들어서기에 알맞은 완만한 언덕 지대가 많아 옛날부터 사람들이 모여 농사를 짓고 살았습니다.

(2) 강화도의 변화된 모습과 변화 원인

강화도의 변화된 모습	<ul style="list-style-type: none"> • 땅의 모습이 변하고, 초가집은 현대화된 양옥집으로 대부분 바뀌었음. • 길이 포장되고 육지와 연결하는 다리가 건설되었음. • 농기계 및 농사 기술이 발달하였음.
강화도의 변화 원인	<ul style="list-style-type: none"> • 과학 기술이 발달했기 때문에 • 간척을 하여 땅이 넓어졌기 때문에 • 강화도와 육지를 잇는 교통이 발달했기 때문에

3 다음 빈칸에 들어갈 알맞은 촌락을 쓰시오.

강화도는 갯벌이 발달하여 간척을 하면 논이나 밭으로 만들 수 있는 곳이 많았고, 농사짓기에 좋은 조건을 갖추고 있어 () 이/가 발달하게 되었습니다.

()

4 강화도에 육지와 연결하는 다리가 생기면서 변화된 모습으로 바르지 않은 것은 어느 것입니까? ()

- ① 육지와 연결되어 교통이 편리해졌다.
- ② 강화도를 오고 가는 사람들이 줄어들었다.
- ③ 특산물의 판매량이 늘어나 농가의 소득이 높아졌다.
- ④ 강화도를 방문하는 관광객이 늘어나 지역 경제에 도움이 되었다.
- ⑤ 생산한 농산물을 다른 지역에 사는 사람들에게 운반할 수 있게 되었다.

유형 1 촌락의 문제와 해결하기 위한 노력

구분	문제	해결하기 위한 노력
인구 감소	촌락의 사람들이 도시로 이동하면서 촌락의 인구가 줄어들었음.	귀농이나 귀촌을 하려는 사람들에게 촌락 정보 제공하기
소득 감소	외국에서 값싼 농수산물 들어오면서 소득이 감소하고 있음.	새로운 기술이나 품종 개발하기, 농업과 어업의 기계화 등
시설 부족	교통 시설이나 문화 시설, 의료 시설 등이 부족함.	폐교나 마을 회관 등을 문화 시설로 만들기, 교통 시설 늘리기 등
환경 오염	농약과 축산 폐수, 폐그물, 배에서 나오는 기름 등으로 환경이 오염됨.	농약병, 폐그물 등의 쓰레기 수거하기, 산에 나무 심기 등

1 다음 내용과 관련 있는 촌락의 문제로 바른 것은 어느 것입니까? ()

농약과 축산 폐수 등으로 인해 물과 토양이 오염되고, 폐그물과 배에서 나오는 기름 등으로 인해 바다가 오염되고 있습니다.

- ① 환경 오염 ② 인구 증가
- ③ 소득 감소 ④ 일손 부족
- ⑤ 시설 부족

2 촌락의 소득을 올리기 위한 노력으로 바르지 않은 것은 어느 것입니까? ()

- ① 새로운 품종을 개발한다.
- ② 새로운 기술을 개발한다.
- ③ 품질 좋은 농수산물을 생산한다.
- ④ 외국에서 값싼 농수산물을 들여온다.
- ⑤ 농업과 어업을 기계화, 과학화하여 일손 부족 문제를 해결한다.

유형 2 더불어 살아가는 촌락과 도시 사람들

(1) 촌락과 도시 사람들이 교류하면 좋은 점

농수산물 직거래 장터	촌락 사람들은 더 높은 소득을 올릴 수 있고, 도시 사람들은 품질 좋은 농수산물을 싸게 살 수 있음.
주말농장	촌락 사람들은 더 높은 소득을 올릴 수 있고, 도시 사람들은 주말농장에서 먹을거리를 직접 얻거나 자연을 체험할 수 있음.
다양한 지역 축제	촌락은 축제를 열어 지역의 전통과 문화를 알리고, 관광업으로 발전시켜 소득을 올리고 있으며, 도시 사람들은 축제에 참여하여 다양한 체험을 할 수 있음.

(2) 촌락을 돕기 위한 도시 사람들의 노력 : 무료 진료 활동하기, 일손 돕기 봉사 활동하기, 문화 공연 펼치기 등

3 다양한 지역 축제를 통해 촌락이 얻을 수 있는 좋은 점으로 바른 것을 두 가지 고르시오. (,)

- ① 교통 문제가 해결된다.
- ② 인구가 늘어나게 된다.
- ③ 공공 기관이 늘어나게 된다.
- ④ 지역의 전통과 문화를 알릴 수 있다.
- ⑤ 관광업으로 발전시켜 소득을 올릴 수 있다.

4 오른쪽 사진은 촌락의 어떤 문제를 해결하기 위하여 도시 사람들이 노력하는 모습입니까? ()



- ① 문화 시설이 부족하다.
- ② 환경이 오염되고 있다.
- ③ 촌락의 인구가 줄어들고 있다.
- ④ 농사를 지을 일손이 부족하다.
- ⑤ 큰 병원이 없어 몸이 아파도 치료를 받기가 어렵다.

유형 1 도시

- (1) 도시의 의미 : 사회적·경제적·정치적 활동의 중심지로서 인구가 많은 지역을 말합니다.
- (2) 도시의 모습과 여러 시설들

도시의 모습	<ul style="list-style-type: none"> • 사람이 많이 살고, 높은 건물이 많음. • 도로가 넓고 차도 많이 다님. • 사람들이 일할 수 있는 곳이 많고, 일의 종류도 많음.
도시의 여러 시설들	<ul style="list-style-type: none"> • 공공 기관 : 시·도청, 경찰서, 소방서 등 • 편의 시설 : 백화점이나 대형 마트(생활에 필요한 물건을 살 수 있는 곳), 은행, 병원 등 • 문화 시설 : 도서관, 박물관, 미술관 등 • 교통 시설 : 도로, 버스, 지하철 등

1 다음에서 설명하는 것은 무엇인지 쓰시오.

사회적·경제적·정치적 활동의 중심지로서 인구가 많은 지역을 말합니다.

()

2 도시에 대한 설명으로 바르지 않은 것은 어느 것입니까? ()

- ① 높은 건물이 많다.
- ② 논과 밭이 넓게 펼쳐져 있다.
- ③ 도로가 넓고 차도 많이 다닌다.
- ④ 교통 시설과 문화 시설이 발달해 있다.
- ⑤ 사람들이 일할 수 있는 곳이 많고, 일의 종류도 많다.

3 도시의 여러 시설 중 생활에 필요한 물건을 살 수 있는 곳은 어디입니까? ()

- ① 시청
- ② 경찰서
- ③ 백화점
- ④ 미술관
- ⑤ 소방서

유형 2 우리 지역의 도시 찾기

(1) 지도를 이용하여 우리 지역의 도시 찾기

지형도	도시가 위치한 지역의 자연환경이나 행정 구역, 교통 등을 두루 살펴볼 수 있음.
인구 분포도	도시의 인구가 어느 정도인지 알 수 있음.
교통도	도시의 도로나 철도와 같은 교통에 대한 정보를 얻을 수 있음.

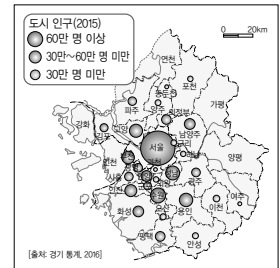
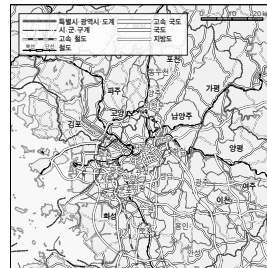
(2) 인터넷을 이용하여 우리 지역의 도시 찾기

- ① 인터넷을 이용하면 지도뿐만 아니라 도시에 대한 자세한 정보도 얻을 수 있습니다.
- ② 항공 사진은 도시의 실제 모습을 살펴보기에 좋습니다.

4 다음 (가), (나) 중 도시의 인구가 어느 정도인지 알 수 있는 지도를 골라 기호를 쓰시오.

(가)

(나)



()

5 다음 빈칸에 공통으로 들어갈 알맞은 말을 쓰시오.

- ()을/를 이용하면 지도뿐만 아니라 도시에 대한 자세한 정보를 얻을 수 있습니다.
- ()으로 찾을 수 있는 항공 사진은 도시의 실제 모습을 살펴보기에 좋습니다.

()

유형 1 우리나라의 도시 분포

(1) 지도를 이용하여 우리 지역과 주변 도시들의 분포 알아보기

행정 구역도에서 울산광역시와 주변 도시 찾아보기	울산광역시 주변에는 경주시, 밀양시, 양산시, 김해시, 부산광역시 등이 있음.
도시 분포도를 보고 울산광역시와 주변 도시들의 분포 알아보기	울산광역시 주변에 도시들이 많이 있고, 부산광역시, 대구광역시, 울산광역시, 창원시는 인구가 100만 명 이상 살고 있는 도시임.
지형도에서 바닷가에 발달한 도시 찾아보기	울산광역시, 부산광역시, 포항시, 강릉시, 속초시 등

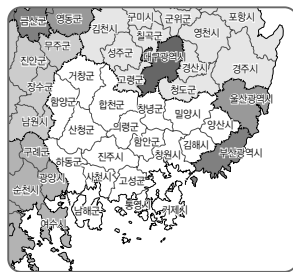
(2) 우리나라 도시 분포의 특징

- ① 여러 도시들이 발달해 있습니다.
- ② 바닷가에 발달한 도시도 있습니다.
- ③ 수도권에는 많은 도시들이 몰려 발달해 있습니다.

1 오른쪽의 행정 구역도를 보고, 울산광역시 주변에 있는 도시를 두 곳 고르시오.

(,)

- ① 양산시
- ② 수원시
- ③ 춘천시
- ④ 대전광역시
- ⑤ 부산광역시



2 우리나라 도시 분포의 특징으로 바르지 않은 것은 어느 것입니까? ()

- ① 도시마다 사는 사람 수가 다르다.
- ② 도시가 전국적으로 고르게 발달해 있다.
- ③ 우리나라에는 여러 도시들이 발달해 있다.
- ④ 서울특별시, 인천광역시, 경기도 지역에 도시가 많이 모여 있다.
- ⑤ 울산광역시, 부산광역시, 포항시 등과 같이 바닷가에 발달한 도시도 있다.

유형 2 도시 형성과 발달

(1) 울산의 변화와 변화된 원인

울산의 변화	<ul style="list-style-type: none"> • 1962년에 시로 승격되었음. • 1997년에 광역시가 되었음.
울산이 변화된 원인	<ul style="list-style-type: none"> • 공업이 빠른 속도로 발달했기 때문에 • 바다가 가까이 있어 다른 나라와 무역을 하기에 좋기 때문에 • 사람이 많이 모여 살게 되었기 때문에

(2) 도시가 발달하게 되는 까닭

- ① 사람들이 모여 살 수 있는 조건이 만족되기 때문입니다.
- ② 교통이 편리하고, 산업이 발달하기 때문입니다.

3 다음 사진과 같이 울산광역시의 모습이 변화된 원인으로 바른 것은 어느 것입니까?

()



▲ 1973년 공업 단지



▲ 2011년 공업 단지

- ① 수도권과 가깝기 때문에
- ② 높은 산지에 있기 때문에
- ③ 공업이 빠른 속도로 발달했기 때문에
- ④ 농업에 종사하는 사람들이 많기 때문에
- ⑤ 하천 주변에 논과 밭이 많이 있기 때문에

4 다음 보기에서 도시가 발달하게 되는 까닭으로 바른 것을 모두 골라 기호를 쓰시오.

보기

- ㉠ 인구가 적기 때문입니다.
- ㉡ 교통이 편리하기 때문입니다.
- ㉢ 농업이 발달하기 때문입니다.
- ㉣ 사람들이 모여 살 수 있는 조건이 만족되기 때문입니다.

()

유형 1 도시 문제의 종류와 발생 원인

(1) 도시 문제의 종류

주택 문제	주택 부족, 비싼 주택 가격, 오래 되고 낡은 주택 등
교통 문제	교통 혼잡, 교통사고, 주차 문제 등
환경 문제	대기 오염, 수질 오염, 쓰레기 문제, 소음 공해 등
그 밖의 문제들	일자리 부족, 어린이집 부족 등

(2) 도시 문제의 발생 원인 : 도시 인구가 많아지면서 여러 가지 문제가 발생하고 있습니다.

1 다음 보기에서 도시에서 일어나는 문제를 모두 골라 기호를 쓰시오.

보기

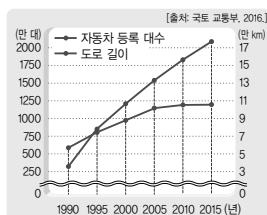
- ㉠ 주택 부족 ㉡ 빈집 증가
 ㉢ 일손 부족 ㉣ 쓰레기 문제
 ㉤ 주차 공간 부족 ㉥ 의료 시설 부족

()

2 오른쪽 그래프를 보고 알 수 있는 도시 문제는 어느 것입니까?

()

- ① 교통 혼잡
 ② 소득 감소
 ③ 일자리 부족
 ④ 보육 시설 부족
 ⑤ 노인 인구 증가



▲ 자동차 등록 대수와 도로 길이의 변화

3 도시 문제가 발생하는 원인으로 바른 것은 어느 것입니까?

()

- ① 소득 증가 ② 환경 오염
 ③ 촌락의 인구 증가 ④ 교통·통신의 발달
 ⑤ 도시로의 인구 집중

유형 2 도시 문제를 해결하기 위한 노력

(1) 도시 문제와 해결 방법

도시 문제	해결 방법
비싼 주택 가격	→ 주택 건설 확대
교통 혼잡	→ 버스 전용 차로제 실시
수질 오염	→ 물 재생 시설 설치

(2) 도시 문제를 해결하기 위하여 참여할 수 있는 일

개인	급식 남기지 않기, 지방 자치 단체에 건의하기 등
가족	쓰레기 분류 배출하기, 대중교통 이용하기 등
이웃	문제 발생 예방을 위한 감시 활동하기 등
친구	쓰레기 줍기 봉사 활동하기, 교통질서 지키기 캠페인하기 등

4 오른쪽 사진과 같은 교통 문제를 해결하기 위한 노력으로 바른 것은 어느 것입니까?

()



- ① 주택 건설을 확대한다.
 ② 직업 박람회를 개최한다.
 ③ 물 재생 시설을 설치한다.
 ④ 국공립 어린이집을 짓는다.
 ⑤ 버스 전용 차로를 실시한다.

5 도시 문제를 해결하기 위하여 개인이 할 수 있는 일은 어느 것입니까?

()

- ① 주택 건설하기
 ② 승용차 이용하기
 ③ 급식 남기지 않기
 ④ 쓰레기 줍기 봉사 활동하기
 ⑤ 문제 발생을 예방하기 위한 감시 활동하기

유형 1 우리나라에 만들어진 신도시

(1) 신도시의 의미 : 계획적으로 개발된 새로운 도시를 말합니다.

(2) 우리나라의 대표적인 신도시

일산과 분당	서울로 인구가 집중되면서 생긴 주택 부족 문제를 해결하기 위하여 만들.
안산시와 여수시의 산업 단지	지역의 산업과 경제를 발전시키기 위하여 만들.
대전의 대덕 연구 단지	과학 기술의 발전을 위하여 만들.
세종특별자치시	우리나라 전체를 골고루 발전시키기 위하여 만들.

1 계획적으로 개발된 새로운 도시를 무엇이라고 하는지 쓰시오.

()

2 서울로 인구가 집중되면서 생긴 주택 부족 문제를 해결하기 위하여 만든 신도시를 두 곳 고르시오.

(,)

- ① 분당
- ② 일산
- ③ 대전광역시(대덕 연구 단지)
- ④ 여수시(여수 국가 산업 단지)
- ⑤ 안산시(반월 국가 산업 단지)

3 다음에서 설명하는 도시는 어디입니까?

()

수도권에 집중된 인구나 기능으로 인해 발생한 문제를 해결하고, 우리나라 전체를 골고루 발전시키기 위하여 충청 지역에 만들었습니다.

- ① 분당
- ② 일산
- ③ 안산시
- ④ 여수시
- ⑤ 세종특별자치시

유형 2 신도시의 문제와 내가 살고 싶은 신도시

(1) 신도시의 문제

교통 문제	신도시에 사는 사람들 중에 대도시로 출퇴근하는 사람이 많아 교통 문제가 발생함.
환경 문제	공장이 모여 있는 신도시에서는 환경 문제가 발생하기도 함.

(2) 내가 살고 싶은 신도시

① 사람들이 살기 좋은 신도시 : 사람과 자연이 조화를 이루며 행복하고 건강한 삶을 살 수 있는 도시입니다.

② 내가 만들고 싶은 신도시(예)

신도시	안전 도시, 평화 도시
까닭	어린이들이 안전하고 행복하게 살 수 있어야 한다고 생각하기 때문임.

4 신도시에서 발생할 수 있는 문제는 어느 것입니까?

()

- ① 노인 인구가 늘어나 일손이 부족하다.
- ② 여가 생활을 즐길 수 있는 시설이 없다.
- ③ 길이 좁고 울퉁불퉁하여 자동차가 다니기 어렵다.
- ④ 대도시로 출퇴근하는 사람이 많아서 교통 문제가 발생한다.
- ⑤ 농약과 축산 폐수 등으로 인해 물과 토양이 오염되고 있다.

5 사람들이 살기 좋은 신도시에 대해 잘못 말한 어린이는 누구인지 쓰시오.

민수 : 문화 시설이 많은 곳이야.

은상 : 사람과 자연이 조화를 이루며 살 수 있는 곳이야.

영도 : 환경이 심하게 오염되더라도 지역의 경제를 발전시키는 곳이야.

()

유형 1 공동의 문제

(1) 학급에서 일어나는 공동의 문제와 해결 방법

학급에서 일어나는 공동의 문제	학급 규칙 정하기, 급식 받는 순서 정하기, 자리 정하기, 청소 당번 정하기 등
학급 문제의 민주적 해결 방법	학급 회의를 열어 서로 의견을 나누고 대화하고 타협하여 의견을 하나로 모아 실천함.

(2) 지역에서 일어나는 공동의 문제와 해결 방법

지역에서 일어나는 공동의 문제	아파트의 층간 소음 문제, 낡은 아파트 문제, 주차 문제, 쓰레기 문제, 하천 오염 문제 등
지역 문제의 민주적 해결 방법	주민 회의를 열어 지역 주민들이 다양한 의견을 제시하고, 대화하고 타협하여 의견을 하나로 모아 실천함.

1 다음을 학급에서 일어나는 공동의 문제를 해결하는 과정에 알맞게 순서대로 기호를 나열하시오.

- ㉠ 대화하고 타협하여 의견을 모읍니다.
 ㉡ 학급 회의가 열리는 날짜와 회의 주제를 알립니다.
 ㉢ 회의를 열고 친구들이 자신의 의견을 발표합니다.
 ㉣ 회의에서 결정된 내용을 발표하고 잘 지키도록 노력합니다.

(→ → →)

2 지역에서 일어나는 공동의 문제는 어느 것입니까? ()

- ① 자리를 정하는 문제
 ② 학급 규칙을 정하는 문제
 ③ 낡은 아파트로 인한 문제
 ④ 1인 1억 활동을 정하는 문제
 ⑤ 급식 받는 순서를 정하는 문제

유형 2 주민 자치

- (1) 주민 자치의 뜻 : 지역 주민들이 지역의 주인으로서 지역 문제에 관심을 가지고 함께 해결해 가는 것을 말합니다.
 (2) 지역 문제를 해결하기 위해 필요한 것 : 지역 문제에 적극적으로 참여하고 함께하려는 마음가짐이 중요합니다.
 (3) 지역 문제를 해결하기 위해 주민의 참여가 중요한 까닭 : 지역의 문제는 모든 지역 주민들에게 영향을 미치기 때문에 지역 주민들이 함께 참여하여 해결해야 합니다.
 (4) 민주적으로 문제를 해결하기 위하여 주민들이 지녀야 할 자세
 ① 지역의 문제에 관심을 가집니다.
 ② 다양한 방법으로 지역 문제의 해결 방법을 찾습니다.
 ③ 지역의 이익을 생각하며 해결 방법을 제시합니다.
 ④ 정해진 해결 방법에 적극적으로 참여합니다.

3 다음에서 설명하는 것을 무엇이라고 하는지 쓰시오.

지역 주민들이 지역의 주인으로서 지역 문제에 관심을 가지고 함께 해결해 가는 것을 말합니다.

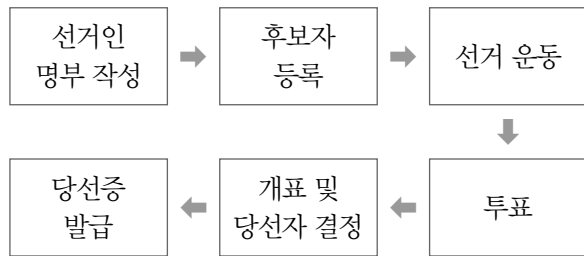
()

4 민주적으로 문제를 해결하기 위하여 주민들이 지녀야 할 자세를 잘못 말한 어린이는 누구입니까? ()

- ① 시경 : 상대방의 의견을 존중해야 해.
 ② 형식 : 지역의 문제에 관심을 가져야 해.
 ③ 지윤 : 지역 문제의 해결 방법을 다양하게 제시해야 돼.
 ④ 성빈 : 해결 방법이 정해지면 적극적으로 참여해야 돼.
 ⑤ 효린 : 해결 방법을 찾을 때 개인의 이익을 먼저 생각해야 돼.

유형 1 선거

- (1) **지역의 대표를 뽑는 까닭** : 지역에는 결정해야 할 중요한 일이 많지만 모든 사람이 모여 지역의 일을 의논하고 결정하는 것이 어렵기 때문입니다.
- (2) **선거의 뜻** : 국민이 자신들을 대표할 사람을 뽑는 것을 말합니다.
- (3) **지방 선거** : 지역의 대표를 뽑는 것으로, 지방 자치 단체장 선거, 지방 의회 의원 선거가 있습니다.
- (4) **선거 과정**



1 다음 빈칸에 들어갈 알맞은 말을 쓰시오.

모든 사람이 모여 지역의 일을 의논하고 결정하는 것이 어렵기 때문에 ()을/를 통해 자신들을 대표할 사람을 뽑습니다.

()

2 다음에서 설명하는 선거 과정은 어느 것입니까? ()

- 거리 유세, 토론회 참가, 명함 돌리기 등의 방법이 있습니다.
- 법에 정해진 방법과 기간을 지켜야 하고 그렇지 않을 경우 법에 따라 처벌을 받습니다.

- ① 투표
- ② 선거 운동
- ③ 후보자 등록
- ④ 선거인 명부 작성
- ⑤ 개표 및 당선자 결정

유형 2 대표를 뽑을 때 고려할 기준과 선거의 원칙

- (1) **대표를 뽑을 때 고려하여야 할 기준** : 성실하고 책임감이 있는지, 실천할 수 있는 약속을 하는지, 주민들을 잘 이끌 수 있는지 등을 고려합니다.
- (2) **선거의 원칙**

보통 선거	법에 따라 일정한 나이가 된 모든 국민에게 선거권을 주는 것
평등 선거	신분이나 재산, 성별, 학력 등 조건에 관계없이 한 사람이 한 표씩 투표할 수 있는 것
직접 선거	자신이 직접 투표해야 하는 것
비밀 선거	자신이 투표한 사람을 다른 사람이 알지 못하게 비밀이 보장되는 것

3 지역의 대표를 뽑을 때 고려하여야 할 기준으로 바르지 않은 것은 어느 것입니까? ()

- ① 후보자가 성실한지 살펴본다.
- ② 후보자가 책임감이 있는지 살펴본다.
- ③ 후보자의 외모가 뛰어난지 살펴본다.
- ④ 후보자가 주민들을 잘 이끌 수 있는지 살펴본다.
- ⑤ 후보자가 실천할 수 있는 약속을 하는지 살펴본다.

4 다음에서 설명하는 선거의 원칙은 어느 것입니까? ()

신분이나 재산, 성별, 학력 등 조건에 관계없이 한 사람이 한 표씩 투표할 수 있는 것입니다.

- ① 직접 선거
- ② 비밀 선거
- ③ 보통 선거
- ④ 간접 선거
- ⑤ 평등 선거

유형 1 지방 자치 단체

- (1) **지방 자치의 뜻** : 지역 주민들과 그들이 뽑은 대표들이 지역의 일을 스스로 결정하고 처리하는 것을 말합니다.
- (2) **지방 자치 단체** : 지역 주민들을 위하여 대표들이 지역의 살림살이를 꾸려 나가는 곳으로, 지역의 살림살이를 결정하고 맡아서 처리합니다.
- (3) **지방 자치 단체의 종류**

지방 정부	주민들이 뽑은 단체장이 있는 시·도청, 시·군·구청이 있음.
지방 의회	주민들이 뽑은 시·도 의원, 시·군·구 의원으로 이루어진 시·도 의회, 시·군·구 의회가 있음.

1 다음 빈칸에 들어갈 알맞은 말을 쓰시오.

지역 주민들과 그들이 뽑은 대표들이 지역의 일을 스스로 결정하고 처리하는 것을 () (이)라고 합니다.

()

2 다음 밑줄 친 '지방 정부'에 해당하지 않는 것은 어느 것입니까? ()

지방 자치 단체는 크게 지방 정부와 지방 의회로 나눕니다.

- ① 시청 ② 도청 ③ 군청
④ 구청 ⑤ 시 의회

3 다음에서 설명하는 것을 무엇이라고 하는지 쓰시오.

- 주민들이 뽑은 시·도 의원, 시·군·구 의원으로 이루어집니다.
- 지역 주민을 위하여 일하는 시·도 의회, 시·군·구 의회가 있습니다.

()

유형 2 시·도 의회와 시·도청에서 하는 일

시·도 의회에서 하는 일	<ul style="list-style-type: none"> • 지역의 상황에 알맞은 조례를 만들거나 고치고, 필요 없는 조례는 없애기도 함. • 지역의 살림살이에 필요한 예산을 검토하고 결정함. • 시·도청과 교육청에서 예산을 계획에 맞게 사용하였는지 확인하고 점검함. • 지역의 중요한 일에 대한 토론회를 열어 시민들의 의견을 듣고 반영함. • 직접 현장에 나가서 지역을 위한 일들이 잘 처리되고 있는지 확인함.
시·도청에서 하는 일	<ul style="list-style-type: none"> • 지역 발전을 위한 개발 계획을 세우고 실천함. • 지역이 발전할 수 있도록 도로, 주택, 상하수도 등을 건설함. • 지역의 산업을 발전시키고 주민들의 소득을 높이기 위한 일을 함. • 지역 문화가 발전할 수 있도록 박물관과 미술관 등을 운영함. • 어린이, 장애인, 노인을 위한 시설을 지음.

4 시·도 의회에서 하는 일로 바르지 않은 것은 어느 것입니까? ()

- ① 필요한 예산을 검토하고 결정한다.
③ 지역의 상황에 알맞은 조례를 만든다.
③ 지역 발전을 위한 계획을 세우고 실천한다.
④ 교육청에서 예산을 계획에 맞게 사용하였는지 점검한다.
⑤ 지역의 중요한 일에 대한 토론회를 열어 시민들의 의견을 듣고 반영한다.

5 시·도청에서 교통이 편리한 지역을 만들기 위하여 하는 일은 어느 것입니까? ()

- ① 주택을 짓는다.
② 박물관을 운영한다.
③ 도로나 지하철을 건설한다.
④ 노인과 장애인을 위한 시설을 설치한다.
⑤ 여가를 즐길 수 있도록 다양한 행사를 연다.

유형 1 지역 문제(예 주차 문제)의 해결을 위해 한 일

(1) **지역 문제** : 좁은 도로에 항상 차들이 주차되어 있어 차들이 오고 가기 어려울 뿐만 아니라 보행자의 안전도 위협받고 있습니다.

(2) **지역 문제 해결을 위해 시청과 시 의회에서 한 일**

시청에서 한 일	<ul style="list-style-type: none"> • 공영 주차장을 만들기로 하였음. • 주민들이 대중교통을 많이 이용할 수 있도록 버스 정류장이나 지하철역 주변에 자전거를 마련해 두고 주민들에게 빌려 주기로 하였음.
시 의회에서 한 일	<ul style="list-style-type: none"> • 시청에서 마련한 주차 문제 해결 계획과 예산을 결정하여 주었음. • 시 의회 의원들은 주차장 공사가 잘 이루어지고 있는지 점검하였음. • 주민들의 의견을 듣기도 하였음.

1 다음 빈칸에 들어갈 알맞은 말을 보기에서 찾아 기호를 쓰시오.

○○길은 좁은 도로로, 주차를 할 수 없는 곳인데 항상 차들이 주차되어 있어 차들이 오고 가기 어렵습니다. 이에 ()은/는 이 문제를 해결하기 위한 계획과 예산을 세웠습니다.

보기

- ㉠ 주민 ㉡ 청와대
㉢ 시·도청 ㉣ 시·도 의회

()

2 지역 문제를 해결하기 위해 시·도 의회에서 한 일로 바른 것은 어느 것입니까? ()

- ① 필요한 예산을 마련한다.
② 마련한 예산을 시·도청에 제출한다.
③ 지역 문제 해결을 위한 계획을 세운다.
④ 계획대로 일이 진행되었는지 점검한다.
⑤ 지역 문제를 해결하기 위하여 공사를 진행한다.

유형 2 지방 정부와 지방 의회의 관계

(1) **지방 정부와 지방 의회의 관계**

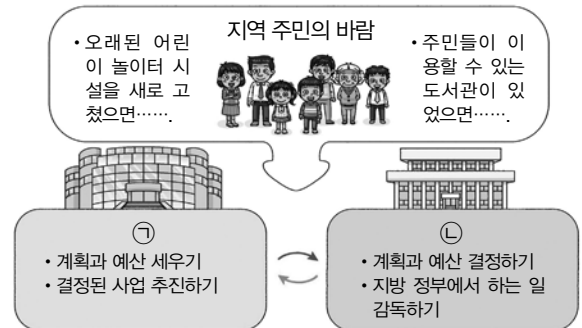
협력 관계	지방 정부에서 세운 계획과 예산을 지방 의회에서 받아들여 지역 문제를 해결함.
견제 관계	지방 의회에서는 지방 정부가 한 일에 대해 점검함.

➔ 지방 정부와 지방 의회는 지역 주민들을 위한 일을 할 때 서로 협력하며 지역 발전을 위하여 노력합니다.

(2) **지방 의회의 점검 활동이 없을 때 생길 수 있는 문제점**

- ① 예산이 낭비될 수 있습니다.
② 시청이 마음대로 사업을 진행할 수 있습니다.
③ 사후 점검을 잘하지 못해 주민들에게 피해를 끼칠 수 있습니다.

3 다음은 지방 정부와 지방 의회의 관계를 나타낸 것입니다. ㉠, ㉡에 알맞은 기관을 쓰시오.



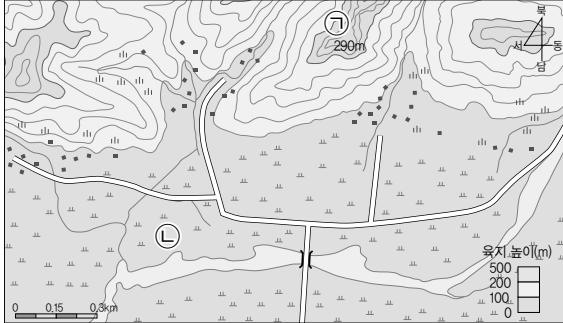
㉠ : (), ㉡ : ()

4 지방 정부가 한 일에 대해 점검하는 지방 의회의 활동이 없을 때 생길 수 있는 일을 두 가지 고르시오. (,)

- ① 예산이 낭비될 수 있다.
② 주민들의 의견을 존중할 수 있다.
③ 주민들에게 피해를 끼칠 수 있다.
④ 계획한 대로 일이 잘 진행될 수 있다.
⑤ 주민들의 불편함을 빨리 해결할 수 있다.

1-① 촌락의 위치와 자연환경

- 1 다음 등고선이 나타난 지도를 보고, ㉠, ㉡의 실제 모습을 간단히 쓰시오.



㉠ : _____

㉡ : _____

- 2 다음 글을 읽고, 소영이네 외삼촌 댁이 있는 지역에 발달한 촌락을 쓰고, 그렇게 생각한 까닭을 쓰시오.

소영이네 외삼촌 댁 뒤에는 낮은 산이 있고, 집 앞에는 넓고 평평한 논이 있습니다. 외삼촌께서는 마을 가까이에 강이 흐르고 있어 논농사를 짓기에 좋다고 말씀하셨습니다.

(1) 발달한 촌락 : ()

(2) 그렇게 생각한 까닭 : _____

1-② 촌락의 생활 모습

- 3 다음과 같은 시설들을 주로 볼 수 있는 촌락에서 하는 일을 두 가지 쓰시오.



▲ 저수지



▲ 정미소

- 4 다음과 같은 촌락에서 발달한 산업을 두 가지 쓰시오.



1-③ 변화하는 촌락

5 다음 그림을 보고, 오늘날 촌락에서 농사짓는 모습을 옛날의 모습과 비교하여 쓰시오.

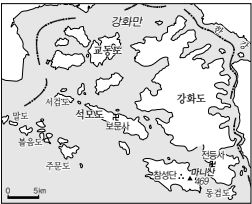


▲ 촌락의 옛날 모습

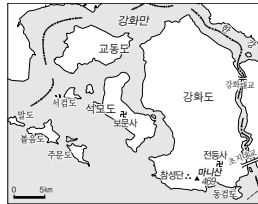


▲ 촌락의 오늘날 모습

6 다음과 같이 강화도의 땅 모양이 변한 까닭은 무엇인지 쓰시오.



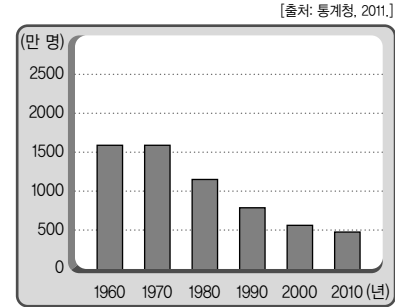
▲ 옛날의 강화도 지도



▲ 오늘날의 강화도 지도

1-④ 촌락의 문제와 해결

7 다음 그래프와 같이 촌락의 인구가 줄어들면서 나타나게 되는 문제를 두 가지 쓰시오.



▲ 촌락의 인구 변화

8 다음과 같은 농수산물 직거래 장터를 통해 촌락과 도시 사람들이 교류하면 좋은 점은 무엇인지 쓰시오.



(1) 촌락 사람들 : _____

(2) 도시 사람들 : _____

2-① 도시의 모습과 위치

- 1 다음 사진은 도시의 모습입니다. 이를 통해 알 수 있는 도시의 특징을 두 가지 쓰시오.

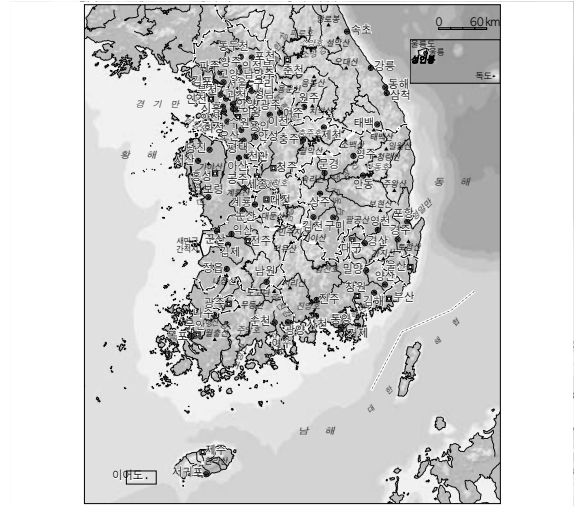


- 2 다음과 같은 지형도를 이용하여 우리 지역의 도시를 찾으려고 합니다. 이 지도를 이용하여 알 수 있는 것은 무엇인지 쓰시오.



2-② 도시의 분포와 발달

- 3 다음 지도를 보고, 우리나라 도시 분포의 특징을 두 가지 쓰시오.



- 4 다음은 울산광역시에 있는 항구의 변화된 모습입니다. 이와 같이 항구가 발달하게 된 까닭은 무엇인지 쓰시오.



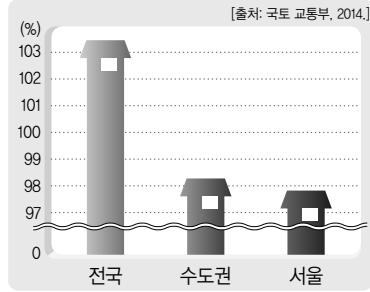
▲ 1966년



▲ 2011년

2-③ 도시의 문제와 해결

- 5 다음 그래프와 같이 서울과 수도권의 주택 보급률이 낮은 까닭은 무엇인지 쓰시오.



- 6 다음과 같은 도시의 교통 혼잡 문제를 해결하기 위한 노력을 쓰시오.



2-④ 신도시의 개발

- 7 다음과 같은 신도시에 아파트가 많이 건설된 까닭을 간단히 쓰시오.



▲ 일산



▲ 분당

- 8 다음은 지역의 산업과 경제를 발전시키기 위하여 만든 신도시입니다. 이와 같이 공장이 모여 있는 신도시에서 발생할 수 있는 문제는 무엇인지 쓰시오.



▲ 안산시(반월 국가 산업 단지)



▲ 여수시(여수 국가 산업 단지)

3-① 함께하는 주민 자치

- 1 다음은 영도네 학급 친구들이 급식 받는 문제로 겪고 있는 어려움에 대해 이야기한 것입니다. 이 문제를 해결하는 과정을 간단히 쓰시오.

신혜 : 급식 시간이 어수선하고 시끄러워요.
 찬영 : 학기 초에 정한 규칙을 친구들이 지키지 않아 속상해요.
 효신 : 급식을 항상 마지막에 받아서 점심시간에 나가 놀 수가 없어요.
 영도 : 급식 때문에 평소에 친했던 친구와 다툰 이후로 서로 사이가 좋지 않아요.

- 2 지역에서 일어나는 공동의 문제를 해결하기 위해 다음과 같은 주민의 참여가 중요한 까닭은 무엇인지 쓰시오.

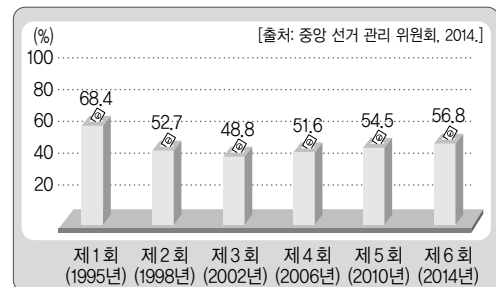


3-② 지역 대표를 뽑는 선거

- 3 다음 상황과 같이 다른 사람이 대신 투표를 하게 되었을 때 생길 수 있는 문제점은 무엇인지 쓰시오.

은영이 어머니께서는 선거하는 날에 몸이 편찮으셔서 움직일 수가 없었습니다. 그래서 은영이 아버지에게 대신 투표해 달라고 하였습니다.

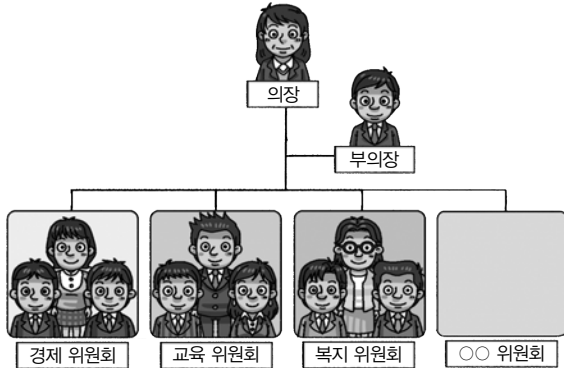
- 4 다음은 우리나라에서 실시한 지방 선거 투표율입니다. 앞으로 실시될 지방 선거의 투표율이 높아져야 하는 까닭은 무엇인지 쓰시오.



▲ 지방 선거 투표율

3-3 우리 지역의 지방 자치 단체

5 다음과 같이 구성되는 지방 자치 단체에서 하는 일을 두 가지 쓰시오.



6 다음과 같은 지방 정부에서 지역 주민을 위하여 하는 일을 두 가지 쓰시오.



▲ 전라북도청

3-4 협력하는 지방 자치 단체

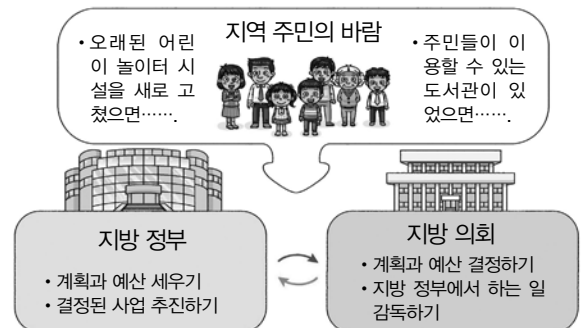
7 윤이는 다음과 같은 지역 문제 해결을 위하여 시청과 시 의회에서 한 일을 구분해 보았습니다. 빈칸에 들어갈 내용을 간단히 쓰시오.

△△시의 문제

쓰레기 매립장에서 나오는 지저분한 물 때문에 주민들이 고통에 시달렸습니다.

시청에서 한 일	시 의회에서 한 일
<ul style="list-style-type: none"> 문제를 해결하기 위한 계획과 예산을 세웠음. 쓰레기 매립장에 각종 오염 방지 시설을 설치하였음. 	

8 다음 그림을 보고, 지방 정부와 지방 의회의 관계를 간단히 쓰시오.



1 오른쪽 사진의 촌락에 대한 설명으로 바른 것을 두 가지 고르시오.



- ① 주로 논농사를 짓는다.
- ② 바다에서 고기를 잡는다.
- ③ 주로 높은 산이 발달하였다.
- ④ 넓게 펼쳐진 논과 밭이 있다.
- ⑤ 밭농사를 하고 벼도 재배한다.

2 어촌의 특징을 바르게 말한 어린이는 누구인지 쓰시오.

현아 : 산으로 둘러싸여 있어.

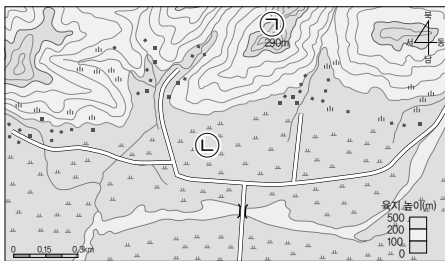
택연 : 바다에서 고기를 잡아.

근석 : 밭농사도 하고 버섯도 재배해.

보라 : 넓은 들이 있어서 농사를 지어.

$$\left(\begin{array}{c} \text{ } \end{array} \right)$$

3~4 다음 지도를 보고, 물음에 답하시오.



3 위 지도의 ㉠과 같이 높이가 같은 곳을 선으로 이어 땅의 높낮이를 나타낸 것을 무엇이라고 하는지 쓰시오.

$$\left(\begin{array}{c} \text{ } \end{array} \right)$$

4 위 지도에서 ㉠은 실제로는 어떤 곳을 나타냅니까? ()

- ① 넓은 강 ② 산의 윗부분
③ 고기를 잡는 곳 ④ 논농사를 짓는 곳
⑤ 갯벌이 발달한 곳

5 우리 지역에 발달한 촌락을 조사하는 방법으로 바르지 않은 것은 어느 것입니까? ()

- ① 지도를 이용한다.
- ② 인터넷을 이용한다.
- ③ 어른께 여쭙어 본다.
- ④ 도시에 사는 친구에게 물어본다.
- ⑤ 직접 찾아가서 현장 조사를 한다.

6 농촌에서 계절에 따라 하는 일이 다른 까닭은 무엇인지 쓰시오.

7 다음과 같은 자연환경을 가진 촌락에서 주로 볼 수 있는 시설은 어느 것입니까? ()

- 주변에 바다가 있습니다.
- 갯벌과 모래사장이 있습니다.



▲ 목차



▲ 정미소



▲ 저수지



▲ 방파제와 등대

8 오른쪽 사진과 같은 촌락에서 발달한 산업은 어느 것입니까? ()

- ① 어업 ② 임업
③ 농업 ④ 양식업
⑤ 서비스업



9 다음과 같이 촌락의 모습이 변화하게 된 원인을 한 가지만 쓰시오.

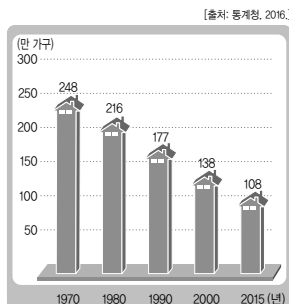


▲ 촌락의 옛날 모습



▲ 촌락의 오늘날 모습

10 다음은 농촌의 가구 수 변화를 나타낸 그래프입니다. 이 그래프에 대한 설명으로 바른 것은 어느 것입니까? ()

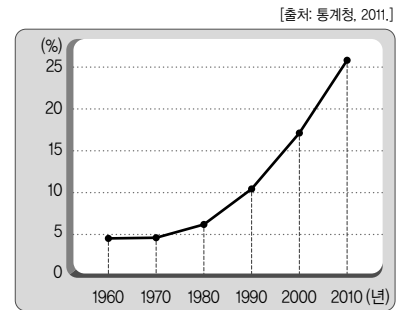


- ① 세로축은 연도를 나타낸다.
② 가로축은 농촌의 가구 수를 나타낸다.
③ 농촌의 가구 수가 점점 줄어들고 있다.
④ 앞으로 일손이 늘어날 것을 예상할 수 있다.
⑤ 1970년에 비해 2015년에 농촌의 가구 수가 2배 정도 증가하였다.

11 오늘날 강화도의 변화된 모습으로 바르지 않은 것은 어느 것입니까? ()

- ① 마을과 마을을 잇는 길이 포장되었다.
② 다리가 건설되면서 교통이 편리해졌다.
③ 현대화된 양옥집으로 대부분 바뀌었다.
④ 과학의 발달로 어업이 가장 발달한 산업이 되었다.
⑤ 특산물의 판매량이 늘어나 농가의 소득이 높아졌다.

12 다음 그래프를 통해 알 수 있는 촌락의 문제로 알맞은 것은 어느 것입니까? ()



▲ 촌락의 노인 인구 비율 변화

- ① 교통 혼잡 ② 인구 증가
③ 환경 오염 ④ 일손 부족
⑤ 노인 인구 감소

13 다음 내용과 관련 있는 촌락의 문제는 무엇입니까? ()

농약, 축산 폐수, 폐그물, 배에서 나오는 기름

- ① 환경 오염 ② 소득 감소
③ 인구 감소 ④ 교통 시설 부족
⑤ 의료 시설 부족

- 14 다음과 같은 지역 축제를 통해 촌락에서 얻을 수 있는 이점은 무엇인지 쓰시오.



▲ 보령 머드 축제



▲ 양양 송이 축제

- 15 도시에 대한 설명으로 바른 것을 두 가지 고르시오. (,)

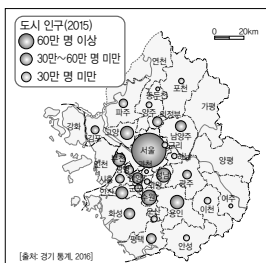
- ① 사람이 많이 산다.
- ② 교통 시설이 발달되어 있다.
- ③ 농촌, 어촌, 산지촌으로 구분할 수 있다.
- ④ 여가 생활을 즐길 수 있는 시설이 부족하다.
- ⑤ 농약과 축산 폐수 등으로 인해 물과 토양이 오염되고 있다.

- 16 도시의 여러 시설 중 문화 시설은 어느 것입니까? ()

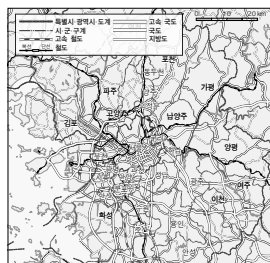
- ① 시청 ② 경찰서 ③ 소방서
- ④ 미술관 ⑤ 대형 마트

- 17 다음 (가), (나) 중 도시의 교통에 대한 정보를 얻을 수 있는 지도를 찾아 기호를 쓰시오.

(가)



(나)



()

- 18 도시가 주로 위치하는 곳을 잘못 말한 어린이는 누구인지 쓰시오.

윤아 : 도시는 높은 산지에 위치해.
근석 : 도시는 인구가 많은 곳에 위치해.
유미 : 도시는 교통이 발달한 곳에 위치해.
장우 : 도시는 산업이 발달한 곳에 위치해.

()

- 19 다음 빈칸에 공통으로 들어갈 알맞은 말을 쓰시오.

우리나라에서 도시들이 몰려서 발달해 있는 서울특별시, 인천광역시, 경기도 지역을 ()(이)라고 합니다. 이 지역의 인구는 1960년대에는 국민 5명 중 1명이었지만, 2010년에는 국민 2명 중 1명이 살고 있을 정도로 늘어났습니다. ()에는 우리나라의 주요한 국가 기관들이 모여 있고, 많은 회사와 은행, 병원, 학교가 있습니다.

()

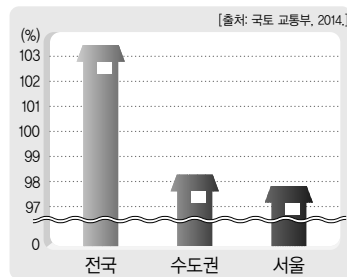
- 20 바닷가에 도시가 발달하는 까닭으로 바른 것을 두 가지 고르시오. (,)

- ① 높은 산으로 둘러싸여 있기 때문에
- ② 집이나 도로를 쉽게 만들 수 있기 때문에
- ③ 물을 쉽게 구할 수 있어 주로 논농사를 짓기 때문에
- ④ 항구가 건설되면 다른 지역으로 이동하기가 편하기 때문에
- ⑤ 고기잡이나 양식업을 할 수 있어서 사람들이 모여 살기에 좋기 때문에

1 우리 지역의 도시 문제 조사 계획을 세울 때 해야 할 일로 바르지 않은 것은 어느 것입니까? ()

- ① 언제 조사할지 정한다.
- ② 조사할 때의 역할을 정한다.
- ③ 어떤 방법으로 조사할지 정한다.
- ④ 조사할 때 필요한 준비물을 정한다.
- ⑤ 조사한 도시 문제를 비슷한 내용끼리 묶어서 표로 정리한다.

2 다음 그래프와 같이 서울과 수도권의 주택 보급률이 낮은 까닭으로 가장 알맞은 것은 어느 것입니까? ()



▲ 주택 보급률

- ① 인구 감소로 빈집이 늘어났기 때문에
- ② 인구 집중으로 주택이 부족하기 때문에
- ③ 오래되고 낡은 주택을 재건축하기 때문에
- ④ 집값이 싸서 집을 얻기가 쉬워졌기 때문에
- ⑤ 주택 단지 건설로 집을 많이 지었기 때문에


3 오른쪽 그림과 같은 도시의 환경 문제를 해결하기 위한 노력으로 바른 것은 어느 것입니까? ()



- ① 주택 건설을 확대한다.
- ② 직업 박람회를 개최한다.
- ③ 고층 아파트를 건설한다.
- ④ 물 재생 시설을 설치한다.
- ⑤ 버스 전용 차로제를 실시한다.

4 도시 문제를 해결하기 위하여 개인이 할 수 있는 일을 한 가지만 쓰시오.

5 과학 기술의 발전을 위하여 만들어진 신도시는 어느 것입니까? ()



6 신도시에서 발생할 수 있는 문제점을 바르게 말한 어린이는 누구인지 쓰시오.

- 소희: 문화생활을 즐길 수 있는 시설이 없어.
- 지현: 노인 인구가 늘어나 인구의 고령화 현상이 심각해.
- 혜수: 대도시로 출퇴근하는 사람이 많아서 교통 문제가 발생해.
- 수현: 농약과 축산 폐수 등으로 인해 물과 토양이 오염되고 있어.

()

7 사람들이 살고 싶은 신도시의 모습으로 바르지 않은 것은 어느 것입니까? ()

- ① 거리가 깨끗한 도시
- ② 소음 공해가 심한 도시
- ③ 사람과 자연이 조화를 이루는 도시
- ④ 어린이들이 안전하게 살 수 있는 도시
- ⑤ 사람들이 행복하고 건강한 삶을 살 수 있는 도시

8 다음 보기에서 지역에서 일어나는 공동의 문제를 모두 골라 기호를 쓰시오.

보기

- ㉠ 주차와 관련된 문제
- ㉡ 학급 규칙을 정하는 문제
- ㉢ 아파트의 층간 소음 문제
- ㉣ 급식 받는 순서를 정하는 문제

()

9 지역 문제를 민주적으로 해결하기 위하여 주민들이 지녀야 할 자세로 바르지 않은 것은 어느 것입니까? ()

- ① 지역의 문제에 관심을 가진다.
- ② 서로에게 미루고, 그냥 내버려 둔다.
- ③ 정해진 해결 방법에 적극적으로 참여한다.
- ④ 지역의 이익을 생각하며 해결 방법을 제시한다.
- ⑤ 다양한 방법으로 지역 문제의 해결 방법을 찾는다.

10 오늘날 선거를 통해 지역의 대표를 뽑는 까닭을 쓰시오.

11 다음은 지역의 대표를 뽑는 선거 과정입니다. 순서대로 바르게 기호를 나열하시오.

- ㉠ 선거 운동을 합니다.
- ㉡ 후보자 등록을 합니다.
- ㉢ 개표를 하고 당선자를 결정합니다.
- ㉣ 선거 관리 위원회에서 당선자에게 당선증을 줍니다.
- ㉤ 투표소에 가서 지지하는 후보자에게 투표를 합니다.
- ㉥ 선거 관리 위원회에서 투표할 수 있는 사람들의 명단을 만듭니다.

(→ → → → →)

12 지역의 대표를 뽑을 때 고려하여야 할 기준으로 바른 것을 두 가지 고르시오. (,)

- ① 후보자가 재산이 많은지 살펴본다.
- ② 후보자가 나와 친한 사람인지 살펴본다.
- ③ 후보자의 고향이 나와 같은지 살펴본다.
- ④ 후보자가 주민들을 잘 이끌 수 있는지 살펴본다.
- ⑤ 후보자가 실천할 수 있는 약속을 하는지 살펴본다.

13 다음 그림과 관련 있는 선거의 원칙은 어느 것입니까? ()



- ① 보통 선거 ② 비밀 선거
- ③ 직접 선거 ④ 평등 선거
- ⑤ 간접 선거

14 지역 주민들이 지방 선거에 참여하는 일이 중요한 까닭은 무엇인지 쓰시오.

15 우리나라의 지방 자치 단체 중 기초 자치 단체에 해당하는 것은 어느 것입니까? ()

- ① 경기도 ② 전라북도
 ③ 서울특별시 ④ 제주특별자치도
 ⑤ 경상남도 합천군

16 우리 지역의 지방 자치 단체에 대해 알아보는 방법으로 바르지 않은 것은 어느 것입니까? ()

- ① 백과사전을 찾아본다.
 ② 지역 신문을 살펴본다.
 ③ 우리 지역의 지도를 살펴본다.
 ④ 지방 자치 단체를 직접 방문한다.
 ⑤ 지방 자치 단체의 누리집에 들어가 본다.

17 다음 보기에서 시·도 의회에서 하는 일을 모두 골라 기호를 쓰시오.

보기

- ㉠ 지역 주민들이 여가를 즐길 수 있도록 다양한 행사를 엮는다.
 ㉡ 지역의 살림살이에 필요한 예산을 꼼꼼하게 검토하고 결정합니다.
 ㉢ 지역의 중요한 일에 대한 토론회를 열어 시민들의 의견을 듣고 반영합니다.
 ㉣ 시·도청과 교육청에서 예산을 계획에 맞게 사용하였는지 확인하고 점검합니다.

()

18 시·도청에서 하는 일로 바르지 않은 것은 어느 것입니까? ()

- ① 조례를 만들거나 고친다.
 ② 어린이, 장애인, 노인을 위한 시설을 짓는다.
 ③ 지역 발전을 위한 개발 계획을 세우고 실천한다.
 ④ 주민들이 생활하는 데 불편한 점을 듣고 해결하여 준다.
 ⑤ 지역의 문화가 발전할 수 있도록 박물관과 미술관 등을 운영한다.

19 다음 ㉠, ㉡에 들어갈 알맞은 말을 쓰시오.

쓰레기 매립장이 시민 휴식 공간으로

쓰레기 매립장에서 나오는 지저분한 물 때문에 △△시 ○○ 지역 주민들이 고통에 시달리자, 이 문제를 해결하기 위하여 (㉠)에서 계획과 예산을 마련한 후 (㉡)에 제출하였습니다. (㉢)에서는 (㉠)에서 제출한 것이 적절한지 살펴본 후 받아들여 계획을 진행할 수 있도록 결정하였습니다.

㉠ : (), ㉡ : ()

20 주민들이 지방 자치 단체에 바라는 일로 바람직하지 않은 것은 어느 것입니까? ()

- ① 학교 안에 작은 숲을 만들어 주세요.
 ② 친구들과 놀이공원에 놀러 갈 수 있게 해 주세요.
 ③ 주택 골목마다 쓰레기 분류 배출함을 만들어 주세요.
 ④ 사람들이 많이 다니는 길에 쓰레기통을 만들어 주세요.
 ⑤ 시청과 구청에 주민들이 편리하게 이용할 수 있는 휴식 공간을 만들어 주세요.

1 산지촌의 모습으로 바른 것은 어느 것입니까? ()



2 다음은 지도에 칠해져 있는 색깔입니다. 땅의 높이가 낮은 곳에서 높아지는 순서에 따라 바르게 기호를 나열하십시오.

- | | |
|-------|-------|
| ㉠ 갈색 | ㉡ 노란색 |
| ㉢ 초록색 | ㉣ 고동색 |

(→ → →)

3 농촌에 사는 사람들이 하는 일로 바르지 않은 것은 어느 것입니까? ()

- ① 가축을 기르는 일
- ② 논밭에서 농사를 짓는 일
- ③ 농기구를 팔거나 수리하는 일
- ④ 바다에서 고기를 잡거나 기르는 일
- ⑤ 농업 기술을 연구하고 알려 주는 일

4 촌락마다 발달한 산업이 다른 까닭은 무엇인지 쓰시오.

5 오늘날 촌락의 달라진 모습에 대한 설명으로 바른 것은 어느 것입니까? ()

- ① 초가집이 많다.
- ② 지게로 짐을 옮긴다.
- ③ 길이 좁고 울퉁불퉁하다.
- ④ 주로 젊은 사람들이 일한다.
- ⑤ 농기계를 이용하여 농사를 짓는다.

6 오늘날 강화도의 땅 모습이 변한 까닭으로 바른 것은 어느 것입니까? ()

- ① 어업과 양식업이 발달했기 때문에
- ② 주변이 산으로 둘러싸여 있기 때문에
- ③ 공업이 발달하여 일자리가 많아졌기 때문에
- ④ 간척을 하여 논이나 밭이 만들어지면서 땅이 넓어졌기 때문에
- ⑤ 초원이 넓어 소와 양을 풀어놓고 키우기에 좋은 조건을 갖추고 있기 때문에

7 촌락을 돕기 위한 도시 사람들의 노력으로 바르지 않은 것은 어느 것입니까? ()

- ① 촌락에서 문화 공연을 펼친다.
- ② 촌락의 지역 축제에 참여한다.
- ③ 촌락에서 무료 진료 활동을 한다.
- ④ 촌락에서 일손 돕기 봉사 활동을 한다.
- ⑤ 대형 마트에서 값싼 수입 농수산물을 사 먹는다.

8 촌락의 자연환경을 보호하기 위한 노력은 어느 것입니까? ()

- ①  ▲ 귀농·귀촌 박람회
- ②  ▲ 어업의 기계화
- ③  ▲ 참다래 재배
- ④  ▲ 페그몰 수거 활동


9 사회적·경제적·정치적 활동의 중심지로서 인구가 많은 지역을 무엇이라고 합니까? ()

- ① 농촌 ② 어촌
③ 도시 ④ 촌락
⑤ 산지촌

10 도시의 교통 시설에 대한 설명으로 바르지 않은 것은 어느 것입니까? ()

- ① 도로가 넓다.
② 교통 시설이 발달되지 않았다.
③ 버스 정류장이나 지하철역이 곳곳에 있다.
④ 크고 작은 도로가 그물처럼 연결되어 있다.
⑤ 사람들은 버스나 지하철을 이용하여 쉽게 이동할 수 있다.

11 다음 사진은 울산광역시의 공업 단지의 변화 모습입니다. 공업 단지의 발달이 울산광역시의 발달에 어떤 영향을 주었는지 쓰시오.




▲ 1973년

▲ 2011년

12 도시에서 주로 발생하는 문제로 바르지 않은 것은 어느 것입니까? ()

- ① 주차할 공간이 부족하다.
② 원하는 일자리를 구하기가 힘들다.
③ 도로에 차가 많아 교통이 혼잡하다.
④ 인구에 비하여 주택 수가 부족하다.
⑤ 농약과 축산 폐수 등으로 인해 물과 토양이 오염된다.

13 다음 사진과 관련된 도시의 문제는 어느 것입니까? ()



- ① 주택 문제 ② 교통 문제
③ 환경 문제 ④ 일자리 부족 문제
⑤ 어린이집 부족 문제

14 다음 내용과 관련 있는 신도시는 어디입니까?
()

대도시의 주택 문제를 해결하기 위하여 수도권에 만들었습니다.

- ① 일산
- ② 대덕 연구 단지
- ③ 세종특별자치시
- ④ 여수 국가 산업 단지
- ⑤ 반월 국가 산업 단지

15 다음은 학급에서 일어나는 공동의 문제를 해결하는 과정입니다. 빈칸에 들어갈 말로 알맞은 것을 두 가지 고르시오. (,)

학급 회의가 열리는 날짜와 주제를 알림.



회의를 열고 친구들이 자신의 의견을 발표함.



()하고 ()하여 의견을 하나로 모음.



회의에서 결정된 내용을 발표하고 잘 지키도록 노력함.

- ① 경쟁 ② 대화
- ③ 타협 ④ 갈등
- ⑤ 무관심

16 다음 ㉠, ㉡에 알맞은 선거 과정을 쓰시오.

선거인 명부 작성 → (㉠) → (㉡)
→ 투표 → 개표 및 당선자 결정 → 당선증 발급

㉠ : (), ㉡ : ()

17 다음 그림과 관련 있는 선거의 원칙은 어느 것입니까?
()



- ① 보통 선거 ② 평등 선거
- ③ 간접 선거 ④ 직접 선거
- ⑤ 비밀 선거

18 지방 의회가 지역의 살림살이를 하는 데 필요한 내용을 규칙으로 정한 것을 무엇이라고 합니까?
()

- ① 법률 ② 조례
- ③ 예산 ④ 자치
- ⑤ 공공시설

19 시·도청에서 안전한 지역을 만들기 위하여 하는 일은 어느 것입니까?
()

- ① 미술관을 운영한다.
- ② 주차 시설을 건설한다.
- ③ 다리나 건물의 안전을 점검한다.
- ④ 어린이, 장애인, 노인을 위한 시설을 짓는다.
- ⑤ 여가를 즐길 수 있도록 다양한 행사를 연다.

20 지방 정부와 지방 의회가 주민들을 위한 일을 할 때 어떤 관계에 있는지 간단히 쓰시오.

꼭지시험

I 촌락의 형성과 주민 생활

1 촌락의 위치와 자연환경

2쪽

- | | | |
|--------------|-------|-------|
| 1 촌락 | 2 어촌 | 3 농촌 |
| 4 ㉠ 어촌 ㉡ 산지촌 | 5 등고선 | |
| 6 색깔 | 7 초록색 | 8 인터넷 |
| 9 농촌 | 10 갯벌 | |

2 촌락의 생활 모습

3쪽

- | | | |
|----------|-------|-------|
| 1 농촌 | 2 정미소 | 3 봄 |
| 4 어촌 | 5 방파제 | 6 산지촌 |
| 7 고령지 채소 | 8 어업 | 9 임업 |
| 10 자연환경 | | |

3 변화하는 촌락

4쪽

- | | | |
|--------|------|------|
| 1 초가집 | 2 소 | 3 지게 |
| 4 발달 | 5 제목 | 6 농촌 |
| 7 농사 | 8 간척 | 9 교통 |
| 10 특산물 | | |

4 촌락의 문제와 해결

5쪽

- | | | |
|---------------|--------|---------|
| 1 감소 | 2 고령화 | 3 감소 |
| 4 바다 | 5 인구 | 6 일손 부족 |
| 7 농수산물 직거래 장터 | 8 주말농장 | |
| 9 특산물 | 10 관광업 | |

2 도시의 발달과 주민 생활

1 도시의 모습과 위치

6쪽

- | | | |
|----------|-------|---------|
| 1 도시 | 2 높은 | 3 도시 |
| 4 문화 시설 | 5 백화점 | 6 교통 |
| 7 지형도 | 8 교통도 | 9 항공 사진 |
| 10 넓은 평지 | | |

2 도시의 분포와 발달

7쪽

- | | | |
|--------|----------|-------|
| 1 분포 | 2 도시 분포도 | 3 수도권 |
| 4 다릅니다 | 5 수도권 | 6 바닷가 |
| 7 바닷가 | 8 공업 | 9 교통 |
| 10 광역시 | | |

3 도시의 문제와 해결

8쪽

- | | | |
|----------------|-------------|------|
| 1 도시 | 2 조사 계획 세우기 | |
| 3 주택 문제 | 4 환경 | 5 도시 |
| 6 주택 건설 확대 | 7 버스 전용 차로제 | |
| 8 수질 오염 | 9 경찰 순찰 강화 | |
| 10 쓰레기 분류 배출하기 | | |

4 신도시의 개발

9쪽

- | | | |
|-----------------|-----------|------|
| 1 신도시 | 2 주택 | 3 산업 |
| 4 대덕 연구 단지 | 5 세종특별자치시 | |
| 6 충청 지역 | 7 교통 | 8 환경 |
| 9 도시에 살고 있는 사람들 | 10 자연 | |

3 민주주의와 주민 자치

1 함께하는 주민 자치

10쪽

- | | | |
|-------|---------|---------|
| 1 공동 | 2 학급 | 3 학급 회의 |
| 4 지역 | 5 층간 소음 | 6 주민 회의 |
| 7 타협 | 8 공동 | 9 주민 자치 |
| 10 참여 | | |

2 지역 대표를 뽑는 선거

11쪽

- | | | |
|-----------------|---------|-------|
| 1 선거 | 2 지방 선거 | |
| 3 ㉠ 후보자 등록 ㉡ 투표 | 4 선거 운동 | |
| 5 선거 관리 위원회 | 6 공약 | |
| 7 평등 선거 | 8 비밀 선거 | 9 토론회 |
| 10 선거 | | |

3 우리 지역의 지방 자치 단체

12쪽

- | | | |
|------------|------------|---------|
| 1 지방 자치 | 2 지방 자치 단체 | |
| 3 광역 자치 단체 | 4 누리집 | |
| 5 지방 의회 | 6 예산 | 7 조례 |
| 8 교육청 | 9 지방 정부 | 10 시·도청 |

4 협력하는 지방 자치 단체

13쪽

- | | | |
|------------|-------------------|--------|
| 1 지방 자치 단체 | 2 시청 | |
| 3 시·도 의회 | 4 ㉠ 시·도청 ㉡ 시·도 의회 | |
| 5 시 의회 | 6 협력 | 7 예산 |
| 8 지역 발전 | 9 제안 | 10 누리집 |

유형문제

I 촌락의 형성과 주민 생활

1 촌락의 위치와 자연환경 14쪽

- | | | |
|-------|------|--------|
| 1 촌락 | 2 농촌 | 3 ㉔, ㉕ |
| 4 등고선 | 5 ㉑ | 6 ㉒ |

- 1 촌락은 농촌, 어촌, 산지촌으로 구분할 수 있습니다.
- 2 농촌은 넓게 펼쳐진 논과 밭이 있고, 주로 논농사를 짓습니다.
- 3 산지촌은 산속에 자리 잡고 있으며, 밭농사도 하고 버섯도 재배합니다.
- 4 등고선이 나타난 지도를 보고 땅의 높낮이를 알 수 있습니다.
- 5 산은 지도에서 꼬불꼬불한 등고선으로 나타나 있습니다.

2 촌락의 생활 모습 15쪽

- | | | |
|-----|--------|-----|
| 1 ㉓ | 2 ㉒, ㉔ | 3 ㉔ |
| 4 ㉔ | 5 농업 | |

- 1 ㉓은 어촌에서 하는 일입니다.
- 2 ㉑, ㉒은 산지촌에 사는 사람들이 하는 일이고, ㉔은 농촌에 사는 사람들이 하는 일입니다.
- 3 ㉑은 산지촌에서 주로 볼 수 있는 시설이고, ㉔, ㉕은 어촌에서 주로 볼 수 있는 시설입니다.
- 4 어촌에서 볼 수 있는 등대는 배의 안전을 위해 필요한 시설입니다.
- 5 논과 밭에서 곡식과 채소 등을 재배하는 것을 농업이라고 하며, 농업은 농촌에서 발달하였습니다.

3 변화하는 촌락 16쪽

- | | | |
|--------|-----|------|
| 1 ㉑, ㉕ | 2 ㉔ | 3 농촌 |
| 4 ㉔ | | |

- 1 오늘날의 촌락은 대부분 양옥집으로 바뀌었고, 길이 넓어지고 포장되었으며, 농기계가 발달하여 적은 일손으로도 농사를 지을 수 있게 되었습니다. ㉔, ㉕, ㉖는 옛날 촌락의 모습입니다.
- 2 ㉔ 젊은 사람들이 일자리를 찾아 도시로 떠나면서 촌락의 인구는 감소하였습니다.
- 3 강화도는 서해안에 위치한 섬이지만, 어촌보다는 주로 농촌이 발달하였습니다.
- 4 ㉔ 육지와 연결하는 다리가 건설되면서 이동하는 사람들이 늘어났습니다.

4 촌락의 문제와 해결 17쪽

- | | | |
|-----|-----|--------|
| 1 ㉑ | 2 ㉔ | 3 ㉔, ㉕ |
| 4 ㉕ | | |

- 1 촌락의 환경 오염에 대해 설명한 것입니다.
- 2 ㉔ 촌락은 외국에서 값싼 농수산물들이 들어오면서 소득이 감소하고 있습니다.
- 3 촌락은 축제를 열어 지역의 전통과 문화를 알리고, 관광업으로 발전시켜 소득을 올리고 있습니다.
- 4 의료 시설이 부족하여 병원에 가지 못하는 촌락 사람들을 위해 도시의 병원에서는 촌락에서 무료 진료 활동을 하고 있습니다.

2 도시의 발달과 주민 생활

1 도시의 모습과 위치 18쪽

- | | | |
|-------|-------|-----|
| 1 도시 | 2 ㉔ | 3 ㉓ |
| 4 (나) | 5 인터넷 | |

- 1 도시는 일정한 지역의 정치·경제·문화의 중심이 되는, 사람이 많이 사는 지역입니다.
- 2 ㉔는 촌락 중 농촌에서 볼 수 있는 모습입니다.
- 3 생활에 필요한 물건을 살 수 있는 곳에는 대형마트, 백화점 등이 있습니다.



- 4 (나) 인구 분포도를 보면 도시의 인구가 어느 정도 인지 알 수 있습니다. (개)는 교통도입니다.
- 5 인터넷으로 찾을 수 있는 도시의 실제 모습을 담은 다양한 사진 자료와 정보는 도시를 이해하는데 도움이 됩니다.

2 도시의 분포와 발달

19쪽

- 1 ①, ⑤ 2 ② 3 ③
4 ㉠, ㉡

- 1 울산광역시 주변에는 경주시, 경산시, 김해시, 밀양시, 양산시, 부산광역시 등이 있습니다.
- 2 ② 우리나라에는 도시가 고르게 발달해 있지 않고 서울특별시, 인천광역시, 경기도 지역에 도시가 가장 많이 모여 있습니다.
- 3 울산광역시는 1962년에 공업 단지가 만들어진 후 공업이 발달하여 아주 큰 공업 도시로 발달하게 되었습니다.
- 4 도시가 발달하려면 사람들이 모여 살 수 있는 조건이 만족되어야 하며, 교통이 편리하고, 공업과 같은 산업이 발달해야 합니다.

3 도시의 문제와 해결

20쪽

- 1 ㉠, ㉡, ㉢ 2 ① 3 ⑤
4 ⑤ 5 ③

- 1 ㉠, ㉡, ㉢은 촌락에서 일어나는 문제입니다.
- 2 도시로 인구가 집중되면서 자동차 수가 빠르게 증가하였고, 그 결과 도로가 부족해지면서 교통이 혼잡해졌습니다.
- 3 도시 인구가 많아지면서 여러 가지 문제가 발생하고 있습니다.
- 4 ①은 비싼 주택 가격, ②는 일자리 부족, ③은 수질 오염, ④는 어린이집 부족을 해결하기 위한 노력입니다.
- 5 ④는 친구, ⑤는 이웃과 함께할 수 있는 일입니다.

4 신도시의 개발

21쪽

- 1 신도시 2 ①, ② 3 ⑤
4 ④ 5 영도

- 1 신도시는 계획적으로 개발된 새로운 도시를 말합니다.
- 2 ③은 과학 기술의 발전을 위하여 만들었고, ④, ⑤는 지역의 산업과 경제를 발전시키기 위하여 만들었습니다.
- 3 세종특별자치시에는 나라의 중요한 일을 하는 기관들이 많습니다.
- 4 신도시에 사는 사람들 중에는 대도시로 출퇴근하는 사람이 많아서 교통 문제가 발생하기도 합니다. ①, ⑤는 촌락에서 발생하는 문제입니다.
- 5 사람들이 살기 좋은 신도시는 사람과 자연이 조화를 이루며 행복하고 건강한 삶을 살 수 있는 도시입니다. 사람들은 환경이 오염된 곳보다는 환경이 깨끗한 곳에서 살고 싶어 합니다.

3 민주주의와 주민 자치

1 함께하는 주민 자치

22쪽

- 1 ㉠ → ㉡ → ㉢ → ㉣ 2 ③
3 주민 자치 4 ⑤

- 1 학급 공동의 문제는 학급 회의를 열어 다양한 의견을 나누고, 대화하고 타협하여 의견을 결정하고 실천합니다.
- 2 ①, ②, ④, ⑤는 학급에서 일어나는 공동의 문제입니다. 지역에서 일어나는 공동의 문제에는 쓰레기 문제, 층간 소음 문제 등이 있습니다.
- 3 지역 주민들은 주민 자치로 지역을 더욱 발전시키고 살기 좋은 곳으로 만들려고 노력합니다.
- 4 ⑤ 지역의 이익을 생각하며 해결 방법을 찾아야 합니다.

2 지역 대표를 뽑는 선거

23쪽

- 1 선거 2 ② 3 ③
4 ⑤

- 1 국민이 자신들을 대표할 사람을 뽑는 것을 선거라고 합니다.
- 2 선거 운동은 법에 정해진 기간에 유권자들에게 다양한 방법으로 지지를 부탁하는 것을 말합니다.
- 3 ③ 후보자의 능력이나 성품이 아니라 외모를 따지는 것은 바람직하지 않습니다.
- 4 평등 선거의 원칙에 따라 신분이나 재산, 성별, 학력 등 조건에 관계없이 한 사람이 한 표씩 투표할 수 있습니다.

3 우리 지역의 지방 자치 단체

24쪽

- 1 지방 자치 2 ⑤ 3 지방 의회
4 ③ 5 ③

- 1 지방 자치는 지역 주민들과 그들이 뽑은 대표들이 지역의 일을 스스로 결정하고 처리하는 것입니다.
- 2 지방 정부에는 시·도청, 시·군·구청이 있습니다. ⑤는 지방 의회에 해당합니다.
- 3 지방 의회에는 주민들이 뽑은 시·도 의원, 시·군·구 의원으로 이루어진 시·도 의회, 시·군·구 의회가 있습니다.
- 4 ③은 시·도청에서 하는 일입니다.
- 5 시·도청은 교통이 편리한 지역을 만들기 위해 도로나 지하철 건설, 승용차 요일제 실시, 자전거 도로 설치, 다리 건설, 주차 단속 등의 일을 합니다.

4 협력하는 지방 자치 단체

25쪽

- 1 ㉠ 2 ④
3 ㉠ 지방 정부 ㉡ 지방 의회 4 ①, ③

- 1 시·도청은 문제를 해결하기 위한 계획을 세우고, 시·도 의회는 그 계획을 결정하여 줍니다.
- 2 ①, ③, ⑤는 시·도청에서 하는 일입니다. ② 시·도 의회는 시·도청이 마련한 예산을 결정하여 줍니다.
- 3 지방 정부와 지방 의회는 지역 주민들을 위한 일을 할 때 서로 협력하며 지역 발전을 위하여 노력합니다.
- 4 지방 의회의 점검 활동이 없다면 시청이 마음대로 사업을 진행하거나 예산이 낭비되며, 사후 점검을 잘하지 못해 주민들에게 피해를 끼칠 수 있습니다.

실전 서술형·논술형 문제

1 촌락의 형성과 주민 생활

26~27쪽

- 1 ㉠ 예 산의 윗부분이다.
㉡ 예 논으로, 논농사를 짓는 곳이다.
제시된 지도에서 산은 꼬불꼬불한 등고선으로 나타나 있고, ㉠에는 논 기호가 나타나 있습니다.
- 2 (1) 농촌
(2) 예 넓고 평평한 논과 강이 있기 때문이다. / 농촌은 넓은 들이 있어서 주로 논농사를 짓기 때문이다.
농촌은 낮고 평평한 곳에 발달해 있습니다.
- 3 예 논에서 벼농사를 한다. / 밭에서 여러 가지 채소를 재배한다. / 과수원에서 다양한 과일을 재배한다.
저수지와 정미소는 농촌에서 주로 볼 수 있는 시설입니다. 농촌에서는 곡식이나 채소, 과일을 재배하는 일을 합니다.
- 4 예 산에서 목재나 나뭇잎을 얻고 버섯 등을 재배하는 임업이 발달하였다. / 소 등을 기르는 축산업이 발달하였다.
산이 많고 울창한 숲이 있는 산지촌에서는 임업, 축산업 등이 발달하였습니다.
- 5 예 옛날에는 소를 이용해 밭을 갈거나 사람의 힘으로 농사를 짓고, 바쁠 때에는 많은 사람이 힘을 합쳐 농사를 지었지만, 오늘날에는 농기계가 발달하여 적은 일손으로도 농사를 짓고, 비닐하우스를 이용하여 농사를 짓기도 한다.



촌락에 나타난 변화의 원인은 과학과 통신 및 교통의 발달로 농기계 및 시설이 발달했기 때문입니다.

- 6 예 강화도는 간척을 하여 땅이 넓어졌기 때문에 땅의 모양이 많이 변화했다.

강화도는 갯벌이 발달하여 간척을 하면 논이나 밭으로 만들 수 있는 곳이 많았습니다. 간척의 결과 땅의 모양이 변화했습니다.

- 7 예 일손이 부족하게 된다. / 교통 시설이나 문화 시설, 편의 시설 등이 부족하다.

촌락의 인구가 줄어들면서 일손 부족 문제, 교통 시설 및 문화 시설, 편의 시설 부족 문제 등이 생겨났습니다.

- 8 (1) 예 더 높은 소득을 올릴 수 있다.

(2) 예 품질 좋은 농수산물을 싸게 살 수 있다.

촌락 사람들은 촌락에서 생산한 곡식, 채소, 과일, 생선 등을 직거래 장터에서 도시 사람들에게 직접 판매합니다.

2 도시의 발달과 주민 생활

28~29 쪽

- 1 예 사람이 많이 산다. / 높은 건물이 많다. / 도로가 넓고 차가 많이 다닌다. / 사람들이 편리하게 이용할 수 있는 시설들이 잘 갖추어져 있다.

도시는 사회적·경제적·정치적 활동의 중심지로서 인구가 많은 지역을 말합니다.

- 2 예 도시가 위치한 지역의 자연환경이나 행정 구역, 교통 등을 살펴볼 수 있다.

지형도에는 산, 평지, 강, 바다와 같은 땅 모양뿐만 아니라 도로, 철도와 같은 교통 시설과 공공기관 등이 나타나 있습니다.

- 3 예 우리나라에는 여러 도시들이 발달해 있다. / 바닷가에 발달한 도시도 있다. / 수도권에는 많은 도시들이 몰려 발달해 있다.

제시된 지도를 통해 우리나라 도시가 어디에 있는지 살펴볼 수 있습니다.

- 4 예 울산은 바다가 가까이 있어 다른 나라와 무역을 하기 쉽기 때문이다.

울산광역시에는 해안 지역에 형성된 도시로, 항구가 발달하면서 수출 및 수입에 유리한 입지 조건을 가지게 되었습니다.

- 5 예 서울과 수도권에 인구가 집중되면서 주택이 부족하게 되었기 때문이다.

서울과 수도권의 주택 보급률이 전국의 주택 보급률에 비하여 낮습니다.

- 6 예 버스 전용 차로제를 실시한다.

제시된 사진은 도시의 교통이 혼잡한 모습입니다. 교통 혼잡을 해결하기 위해 버스 전용 차로제를 실시하여 도로의 한 차로를 버스만 다닐 수 있게 합니다.

- 7 예 서울로 인구가 집중되면서 생긴 주택 부족 문제를 해결하기 위하여 신도시를 만들었기 때문이다.

일산과 분당은 서울로의 인구 집중으로 인해 생긴 주택 문제를 해결하기 위하여 만들었습니다.

- 8 예 공장이 많이 모여 있어 환경 문제가 발생할 수 있다.

공장이 모여 있는 신도시에서는 환경 문제가 발생하기도 합니다.

3 민주주의와 주민 자치

30~31 쪽

- 1 예 학급 회의를 열어 여러 가지 의견을 나누고, 대화하고 타협하여 의견을 결정하고 실천한다.

학급 공동의 문제 해결 과정은 '학급 회의가 열리는 날짜와 회의 주제 알리기 → 학급 회의를 열고, 친구들이 자신의 의견 발표하기 → 대화하고 타협하여 의견을 하나로 모으기 → 회의에서 결정된 내용을 발표하고, 잘 실천하도록 노력하기' 순으로 이루어집니다.

- 2 예 지역의 문제는 모든 지역 주민들에게 영향을 미치기 때문에 주민들이 함께 참여하여 해결해야 한다.

지역의 문제를 해결하기 위해서는 주민들이 지역 문제에 적극적으로 참여하고 함께 해결하려는 마음가짐이 중요합니다.

- 3 예 은영이 어머니의 생각과 다르게 투표될 수 있다.
제시된 내용은 자신이 직접 투표해야 하는 직접 선거의 원칙을 지키지 않은 것입니다.
- 4 예 선거에 참여하여 투표할 때 자신의 의견이나 바람이 정책에 반영될 수 있기 때문이다. / 대표를 잘 뽑아야 우리 지역이 발전하고 우리나라의 민주 정치도 더욱 발전할 수 있기 때문이다.
지역의 대표는 주민들을 대표하여 지역의 중요한 일을 결정합니다. 주민들이 지역의 대표를 뽑는 선거에 참여할 때 지역 주민들의 의견이나 바람이 정책에 반영될 수 있습니다.
- 5 예 주민들이 제기하는 불만 사항이나 요구하는 희망 사항을 알아본다. / 조례를 만들거나 고치고, 필요 없는 조례는 없앤다. / 지역의 살림살이에 필요한 예산을 꼼꼼하게 검토하고 결정한다. / 시·도청과 교육청에서 예산을 계획에 맞게 사용하였는지 확인하고 점검한다.
의장과 부의장을 중심으로, 지방 의회 의원들이 맡은 일에 따라 여러 위원회로 구성되는 곳은 지방 의회입니다. 지방 의회는 지방 정부에서 예산을 잘 운영하는지, 시민들의 바람을 잘 반영하는지, 잘못 운영하는 점이 없는지 확인하고 감독하는 일을 합니다.
- 6 예 지역 발전을 위한 개발 계획을 세우고 실천한다. / 지역이 발전할 수 있도록 도로, 주택, 상하수도 등을 건설한다. / 주민들이 생활하는 데 불편한 점을 듣고 해결하여 준다.
지방 정부는 편리한 교통, 안전한 지역, 살기 좋은 환경, 잘사는 지역 등을 만들기 위해 노력합니다.
- 7 예 시청에서 제출한 계획과 예산을 받아들여 계획을 진행할 수 있도록 결정하였다. / 시 의회 의원들은 시청에서 예산을 낭비하였는지, 계획대로 일이 진행되었는지 점검하였다.
지역의 문제를 해결하려고 시청과 시 의회는 서로 협력하면서 일을 잘하고 있는지 감독합니다.
- 8 예 지방 정부에서 계획과 예산을 세우면 지방 의회에서 계획과 예산을 결정하고, 지방 의회는 지방 정부에서 하는 일을 감독한다. / 지방 정부와 지방 의회는 지역 주민들을 위한 일을 할 때 서로 협력하며 지역 발전을 위하여 노력한다.

중간·기말 학력평가

중간 학력평가

32~34 쪽

- | | | |
|--|--------|---------|
| 1 ①, ④ | 2 택연 | 3 등고선 |
| 4 ④ | 5 ④ | |
| 6 예 농사일은 자연환경의 영향을 많이 받기 때문이다. / 농사일은 때를 잘 맞춰서 해야 하기 때문이다. | | |
| 7 ④ | 8 ② | |
| 9 예 과학과 통신 및 교통의 발달로 농기계 및 시설이 발달했기 때문이다. | | |
| 10 ③ | 11 ④ | 12 ④ |
| 13 ① | | |
| 14 예 지역의 전통과 문화를 알리고, 관광업으로 발전시켜 소득을 올릴 수 있다. | | |
| 15 ①, ② | 16 ④ | 17 나 |
| 18 윤아 | 19 수도권 | 20 ④, ⑤ |

- 1 제시된 사진은 농촌의 모습입니다. 농촌은 넓은 들이 있어서 농사를 짓습니다. ②는 어촌, ③, ⑤는 산지촌에 대한 설명입니다.
- 2 어촌은 바닷가에 자리 잡은 촌락으로, 주로 바다에서 고기를 잡습니다.
- 4 지도에서 ‘ㄱ’ 표시가 있는 곳은 논입니다.
- 5 우리 지역에 발달한 촌락을 조사하는 방법에는 지도 이용하기, 인터넷 이용하기, 어른께 여쭙어 보기, 현장 조사하기 등이 있습니다.
- 7 방파제는 항구로 밀려드는 파도를 막기 위한 시설이고, 등대는 밤에 다니는 배를 위해 불을 밝혀주는 시설로 어촌에서 볼 수 있습니다.
- 8 산이 많고 울창한 숲이 있는 산지촌에서는 임업이 발달하였습니다.
- 9 촌락은 집이나 길, 농사짓는 방법, 짐 운반 등의 모습이 옛날과 달라졌습니다.
- 10 ① 가로축은 연도를 나타내고, ② 세로축은 농촌의 가구 수를 나타냅니다. ④ 농촌의 인구가 감소하여 일손이 부족해질 것이라는 예상을 해 볼 수 있습니다. ⑤ 1970년에 비해 2015년에 농촌의 가구 수가 2배 정도 감소하였습니다.



- 11 ④ 강화도는 서해안에 위치한 섬이지만, 어촌보다는 주로 농촌이 발달하였습니다.
- 12 촌락에 젊은 사람들은 줄어들고 노인들이 많아지면서 일손 부족 문제가 나타나고 있습니다.
- 13 농약과 축산 폐수 등으로 인해 물과 토양이 오염되고, 폐그물과 배에서 나오는 기름 등으로 인해 바다가 오염되고 있습니다.
- 15 ③, ④, ⑤는 촌락에 대한 설명입니다.
- 16 ①, ②, ③은 공공 기관이고, ⑤는 편의 시설로 생활에 필요한 물건을 살 수 있는 곳입니다.
- 17 ㉞는 도시의 인구가 어느 정도인지 알 수 있는 인구 분포도입니다.
- 18 도시는 주로 넓고 평평한 땅에 위치합니다.
- 20 바닷가에 도시가 발달하는 까닭은 고기잡이나 양식업을 할 수 있어서 사람들이 모여 살기에 좋고, 다른 나라에 물건을 팔거나 사 올 때 바다를 이용하면 편리하기 때문입니다.

기말 학력평가

중간 이후 범위

35~37쪽

- 1 ⑤ 2 ② 3 ④
- 4 ㉞ 급식을 남기지 않는다. / 쓰레기를 함부로 버리지 않는다. / 지방 자치 단체에 건의한다.
- 5 ③ 6 해수 7 ②
- 8 ㉞, ㉟ 9 ②
- 10 ㉞ 지역에는 결정해야 할 중요한 일이 많지만 모든 사람이 모여 지역의 일을 의논하고 결정하는 것이 어렵기 때문이다.
- 11 ㉞ → ㉟ → ㉡ → ㉢ → ㉣ → ㉤
- 12 ④, ⑤ 13 ④
- 14 ㉞ 지역 주민들이 선거에 많이 참여할수록 대표로 뽑힌 사람이 지역의 일을 더욱 열심히 하고 공약을 실천하게 된다. / 지역 주민들이 지역 대표가 하는 일을 살펴보고 지켜보게 된다.
- 15 ⑤ 16 ① 17 ㉟, ㉡, ㉢
- 18 ① 19 ㉡ 시청 ㉢ 시 의회
- 20 ②

- 1 조사 계획을 세울 때에는 조사 방법, 준비물, 역할 분담 등에 대해 이야기합니다. ⑤는 조사한 내용을 정리하는 단계에서 해야 할 일입니다.
- 2 서울과 수도권에 인구가 집중되면서 주택이 부족하게 되어 주택 보급률이 낮습니다.
- 3 수질 오염 문제를 해결하기 위하여 물 재생 시설을 설치합니다.
- 5 ①, ②는 서울로 인구가 집중되면서 생긴 주택 부족 문제를 해결하기 위하여 만들어진 신도시이고, ④는 나라 전체를 골고루 발전시키기 위하여 만들어진 신도시입니다.
- 6 신도시에 사는 사람들 중에는 대도시로 출퇴근하는 사람이 많아서 교통 체증과 같은 문제가 발생하기도 합니다.
- 7 ②는 사람들이 살고 싶은 신도시의 모습으로 알맞지 않습니다.
- 8 ㉟, ㉡은 학급에서 일어나는 공동의 문제입니다.
- 9 ② 서로에게 미루지 말고 지역 문제 해결에 적극적으로 참여해야 합니다.
- 10 오늘날은 지역에 많은 사람들이 살고 있어서 모든 지역 주민들이 모여 직접 결정을 내리기가 어렵습니다.
- 11 선거는 '선거인 명부 작성 → 후보자 등록 → 선거 운동 → 투표 → 개표 및 당선자 결정 → 당선증 발급'의 순으로 이루어집니다.
- 12 지역의 대표를 뽑을 때에는 후보자가 성실하고 책임감이 있는지, 실천할 수 있는 약속을 하는지, 주민들을 잘 이끌 수 있는 능력을 가지고 있는지 등을 살펴봅니다.
- 13 평등 선거는 신분이나 재산, 성별, 학력 등 조건에 관계없이 한 사람이 한 표씩 투표할 수 있는 것입니다.
- 14 선거에 참여해 지역의 대표를 뽑고, 지역 대표가 주민들의 의견을 반영하여 지역의 일을 바르게 결정하도록 해야 합니다.

- 15 특별시, 광역시, 도 및 특별자치도, 특별자치시는 광역 자치 단체이고, 시, 군, 자치구는 기초 자치 단체입니다.
- 16 지방 자치 단체를 알아보는 방법에는 지역의 지도 살펴보기, 지방 자치 단체의 누리집에 들어가 보기, 지방 자치 단체를 직접 방문하기, 지역 신문과 방송 이용하기 등이 있습니다.
- 17 ㉠은 시·도청에서 하는 일입니다.
- 18 ㉠은 시·도 의회에서 하는 일입니다.
- 19 제시문에서 지역의 문제를 해결하기 위해 시청과 시 의회는 서로 협력하고 있습니다.

기말 학력평가

전 범위

38~40 쪽

- 1 ㉢ 2 ㉤ → ㉡ → ㉠ → ㉢
- 3 ㉣
- 4 예 촌락마다 자연환경이 달라서 자연환경을 이용한 생산 활동이 다르기 때문이다.
- 5 ㉤ 6 ㉣ 7 ㉤
- 8 ㉣ 9 ㉢ 10 ㉢
- 11 예 공업이 발달하여 일자리가 많아지고 교통이 편리해졌으며, 사람들이 많이 모여 살게 되었다.
- 12 ㉤ 13 ㉢ 14 ㉠
- 15 ㉡, ㉢ 16 ㉠ 후보자 등록 ㉡ 선거 운동
- 17 ㉤ 18 ㉡ 19 ㉢
- 20 예 지방 정부에서 계획과 예산을 세우면 지방 의회에서 계획과 예산을 결정하고, 지방 정부에서 결정된 사업을 추진하면 지방 의회는 지방 정부에서 하는 일을 감독한다.

- 1 ㉠은 농촌, ㉡는 어촌, ㉣는 도시의 모습입니다.
- 2 땅의 낮은 곳은 초록색으로 칠하고, 높이가 높아질수록 노란색, 갈색, 고동색의 순서로 칠합니다.
- 3 ㉣는 어촌에 사는 사람들이 하는 일입니다.
- 4 촌락은 주로 자연환경을 이용한 산업이 발달하였으며, 각 촌락마다 자연환경이 다르기 때문에 발달한 산업도 다릅니다.

- 5 ㉠, ㉡, ㉢, ㉣는 옛날 촌락의 모습입니다.
- 6 강화도는 간척을 하여 농사를 지을 수 있는 논이나 밭을 많이 만들었고, 땅이 넓어지면서 땅의 모습이 많이 변화하였습니다.
- 7 촌락과 도시 사람들은 필요한 물건을 사고팔고, 서로의 문화를 체험하면서 도움을 주고받습니다.
- 8 물과 토양이 오염되지 않도록 농약병이나 폐그물과 같은 쓰레기를 수거하는 활동을 합니다.
- 10 ㉡ 도시에선 교통 시설이 발달되어 있습니다.
- 11 울산에 공업이 발달하면서 사람들이 일자리를 찾아 모여들었습니다.
- 12 ㉤는 촌락에서 주로 발생하는 환경 문제입니다.
- 13 제시된 사진은 대기 오염, 수질 오염 등의 환경 문제를 나타냅니다.
- 14 일산은 서울로 인구가 집중되면서 생긴 주택 부족 문제를 해결하기 위하여 만든 신도시입니다.
- 15 학급의 문제를 확인하고 학급 회의를 열어 대화하고 타협하여 의견을 하나로 모아 실천하는 과정이 필요합니다.
- 16 지역의 대표가 되기를 원하는 사람들이 선거 관리 위원회에 후보자 등록을 하고, 후보자들은 법으로 정해진 기간 동안 유권자들에게 다양한 방법으로 지지를 부탁드립니다.
- 17 비밀 선거는 자신이 투표한 사람을 다른 사람이 알지 못하게 하는 것입니다.
- 18 조례는 지방 자치 단체의 구역 안에서 적용되는 규칙으로, 지방 의회는 조례를 만들거나 고치고, 필요 없는 것은 없애기도 합니다.
- 19 시·도청은 안전한 지역을 만들기 위하여 다리나 건물 안전 점검, 화재 예방 및 진압, 방범 시설 설치 등의 일을 합니다.
- 20 지방 정부와 지방 의회는 지역 주민들을 위한 일을 할 때 서로 협력하며 지역 발전을 위하여 노력합니다.